



Prefeitura Municipal de
Marcelândia

CONCURSO PÚBLICO
PREFEITURA DO MUNICÍPIO DE MARCELÂNDIA - MT

EDITAL N.º 01/2025

AGENTE DE FISCALIZAÇÃO

Duração: 4h (quatro horas)

Leia atentamente as instruções abaixo:

01 Você recebeu do fiscal o seguinte material:

a) Este caderno, com **40 (quarenta)** questões da prova objetiva, sem repetição ou falha, conforme distribuição abaixo:

CONHECIMENTOS BÁSICOS			CONHECIMENTOS ESPECÍFICOS
LÍNGUA PORTUGUESA	NOÇÕES DE INFORMÁTICA	RACIOCÍNIO LÓGICO-MATEMÁTICO	
1 a 12	13 a 18	19 a 24	25 a 40

b) Um cartão de respostas destinado à marcação da alternativa correta.

- 02** Verifique se este material está em ordem e se o seu nome, RG, cargo e número de inscrição conferem com os dados que aparecem no cartão de respostas. Caso contrário, notifique imediatamente o fiscal.
- 03** Após a conferência, o candidato deverá assinar no espaço próprio do cartão de respostas, com caneta esferográfica de tinta na cor azul ou preta.
- 04** No cartão de respostas da prova objetiva, a marcação da alternativa correta deve ser feita cobrindo a letra correspondente ao número da questão e preenchendo todo o espaço interno, com caneta esferográfica de tinta na cor azul ou preta, de forma contínua e densa.

Exemplo: A B C D

- 05** Para cada uma das questões objetivas, são apresentadas **4 (quatro) alternativas** classificadas com as letras (A, B, C e D), mas só uma responde adequadamente à questão proposta. Você só deve assinalar uma alternativa. A marcação em mais de uma alternativa anula a questão, mesmo que uma das respostas esteja correta.
- 06** O candidato poderá entregar seu cartão de respostas, seu caderno de questões e retirar-se da sala de prova somente depois de decorrida **1 (uma) hora** do início da prova. O candidato que insistir em sair da sala de prova, descumprindo o aqui disposto, deverá assinar o termo de ocorrência declarando sua desistência do certame, que será lavrado pelo coordenador do local.
- 07** Não será permitido ao candidato retirar-se do local de aplicação das provas, a qualquer tempo, portando o caderno de questões.
- 08** Será fornecida pelo INSTITUTO SELECON uma folha específica para rascunho, na qual o candidato poderá anotar manualmente as alternativas marcadas no respectivo cartão de respostas. **O candidato que se retirar da sala levando o cartão de respostas estará automaticamente eliminado do certame.**
- 09** Reserve os **30 (trinta)** minutos finais para marcar seu cartão de respostas. Os rascunhos e as marcações assinaladas no caderno de questões não serão levados em consideração.
- 10** Os **3 (três)** últimos candidatos permanecerão sentados até que todos concluem a prova ou que termine o seu tempo de duração, devendo assinar a ata de sala e retirar-se juntos.

LÍNGUA PORTUGUESA

Leia o texto a seguir:

SES distribui 500 mil doses e incentiva campanha de multivacinação de crianças e adolescentes de até 15 anos

A Secretaria de Estado de Saúde (SES) distribuiu 500 mil doses de vacina para que os 142 municípios do Estado realizem ações da Campanha Nacional de Multivacinação, entre os dias 6 e 31 de outubro. A iniciativa do Ministério da Saúde, em parceria com Estados e prefeituras, é voltada para o público de até 15 anos de idade.

O Dia D de mobilização está marcado para 18 de outubro (sábado), quando os postos de saúde ficarão abertos em todo o país para atender a população.

"É muito importante que todos, em especial crianças e adolescentes, mantenham a caderneta atualizada. Todas as doses previstas no Calendário Nacional de Vacinação estarão à disposição da população de Mato Grosso. O Dia D, que vai ocorrer em um sábado, será mais uma oportunidade para que os pais e responsáveis possam proteger as nossas crianças", destacou o secretário de Estado de Saúde, Gilberto Figueiredo.

Segundo a superintendente de Vigilância em Saúde da SES, Alessandra Moraes, os não vacinados contra o HPV (papilomavírus humano), febre amarela e sarampo estão entre as prioridades da campanha.

"Precisamos reforçar a prevenção contra o sarampo em todo o Estado, principalmente pela proximidade com a Bolívia, onde houve um surto de casos. Por isso, essa vacina será oferecida também aos adultos até 59 anos. É muito importante que nós atinjamos alta cobertura vacinal para prevenir a reintrodução da doença no Brasil", esclareceu Alessandra.

Até 1º de outubro de 2025, o Brasil confirmou 31 casos importados, quando a infecção ocorre fora do país. Em Mato Grosso, foram registrados três casos no município de Primavera do Leste.

Durante a campanha, estarão disponíveis vacinas contra BCG, rotavírus, pneumocócica-10 valente, meningocócica C, meningocócica ACWY, pentavalente, poliomielite, febre amarela, tríplice viral, varicela, hepatite A, hepatite B, dupla adulto, HPV e dTpa.

De acordo com o coordenador estadual de Imunização, Marx Camarão, a SES tem mantido um diálogo constante com os municípios para garantir que a vacinação seja ampliada de forma eficaz durante toda a campanha.

"Trabalhamos juntos para otimizar a distribuição de doses e mobilizar as equipes de saúde, assegurando que todos os cidadãos tenham acesso a essa importante medida de proteção. O objetivo é alcançar o maior número de pessoas possível, priorizando as áreas com maior vulnerabilidade e garantindo a continuidade das ações de imunização", afirmou o coordenador.

Com cobertura vacinal de 98,9%, a dose contra BCG é a única no Estado que está acima da ideal, de 90%. As vacinas contra rotavírus e HPV têm a mesma meta, mas estão, respectivamente, com cobertura de 84,13% e de 85,54% em meninas e de 72,23% em meninos.

As outras vacinas têm cobertura ideal de 95%, mas, conforme atualização do painel nesta terça-feira (7.10), estão abaixo do desejado: pneumocócica-10: 87%; meningocócica C: 83,8%; poliomielite: 81,1%; febre amarela: 72,4%; pentavalente: 81,7%; tríplice viral: 89,9%; varicela: 67,8%; e hepatite A: 77,9%.

Fonte: <https://jornaldematogrosso.com.br/noticia/136410/ses-distribui-500-mil-doses-e-incentiva-campanha-de-multivacinacao-de-criancas-e-adolescentes-de-ate.html>. Acesso em 09/10/2025

1. O texto tem como propósito principal:

- A) relatar os casos recentes de sarampo e o surto ocorrido na Bolívia
- B) anunciar a criação de novas vacinas voltadas para o público infantojuvenil
- C) apresentar críticas à baixa cobertura vacinal no estado do Mato Grosso
- D) divulgar e incentivar a adesão à Campanha Nacional de Multivacinação

2. A justificativa dada pela superintendente de Vigilância Sanitária em Saúde da SES para reforçar a vacinação contra o sarampo está diretamente relacionada à:

- A) necessidade de incluir novas vacinas no calendário infantil
- B) alta cobertura vacinal entre adolescentes e jovens
- C) existência de um surto da doença na Bolívia
- D) interrupção das campanhas anteriores

3. O posicionamento do secretário de Estado de Saúde, no terceiro parágrafo do texto, revela que ele:

- A) considera o Dia D uma iniciativa desnecessária, mas protocolar
- B) sugere priorizar apenas as vacinas de maior risco epidemiológico
- C) enfatiza a importância de campanhas apenas para o público infantil
- D) demonstra preocupação com o engajamento das famílias na imunização

4. O sétimo parágrafo do texto lista as vacinas disponíveis durante a campanha. Essa lista tem a função de:

- A) destacar as vacinas que terão prioridade no Dia D
- B) comprovar a complexidade logística envolvida na campanha
- C) ilustrar a abrangência do atendimento oferecido à população
- D) apresentar apenas as vacinas com cobertura vacinal insuficiente

5. No trecho "Precisamos reforçar a prevenção contra o sarampo em todo o Estado, principalmente pela proximidade com a Bolívia, onde houve um surto de casos. Por isso, essa vacina será oferecida também aos adultos até 59 anos" (5º parágrafo), o termo em destaque refere-se a:

- A) HPV
- B) sarampo
- C) hepatite A
- D) febre amarela

6. “**É muito importante** que todos, em especial crianças e adolescentes, mantenham a caderneta atualizada” (3º parágrafo). A expressão em destaque cumpre a função de:

- A) atenuar a obrigação expressa pela frase
- B) expressar dúvida sobre a eficácia das vacinas
- C) apresentar um fato comprovado cientificamente
- D) introduzir uma recomendação com valor de apelo

7. “A iniciativa do Ministério da Saúde, em parceria com Estados e prefeituras, é **voltada** para o público de até 15 anos de idade” (1º parágrafo). A palavra em destaque faz referência direta ao termo:

- A) iniciativa
- B) Saúde
- C) parceria
- D) idade

8. “O Dia D, **que** vai ocorrer em um sábado, será mais uma oportunidade para que os pais e responsáveis possam proteger as nossas crianças” (3º parágrafo). Nesse trecho, a palavra em destaque é classificada como:

- A) pronome relativo
- B) conjunção integrante
- C) conjunção coordenativa
- D) conjunção subordinativa

9. “**Segundo** a superintendente de Vigilância em Saúde da SES, Alessandra Moraes, os não vacinados contra o HPV (papilomavírus humano), febre amarela e sarampo estão entre as prioridades da campanha” (4º parágrafo). O conectivo em destaque poderia ser substituído, sem alteração de sentido, por:

- A) a menos que
- B) conforme
- C) inclusive
- D) já que

10. “Até 1º de outubro de 2025, o Brasil **confirmou** 31 casos importados, quando a infecção ocorre fora do país” (6º parágrafo). Se a forma verbal em destaque estivesse flexionada no pretérito imperfeito do modo indicativo, teríamos:

- A) confirmaria
- B) confirmava
- C) confirmara
- D) confirmasse

11. “Até 1º de outubro de 2025, **o Brasil** confirmou 31 casos importados” (6º parágrafo). O trecho em destaque pode ser classificado sintaticamente como:









- A) sujeito
- B) aposto
- C) vocativo
- D) predicado

12. Na palavra **VACINAS**, o elemento em destaque tem a mesma função e o mesmo significado do que está indicado em:

- A) lápis
- B) vírus
- C) tropas
- D) ônibus

NOÇÕES DE INFORMÁTICA

13. No que se refere aos conceitos básicos do *Word* no pacote *MS Office* da plataforma *Microsoft 365 BR*, acessado na *web*, um funcionário que exerce as funções de técnico nível médio da Prefeitura de Marcelândia acionou dois ícones: o primeiro para alterar a cor da fonte e o segundo para aplicar um novo espaçamento entre as linhas de um parágrafo. Esses ícones foram, respectivamente:

- A)  e 
- B)  e 
- C)  e 
- D)  e 





14. A planilha da figura foi criada no *Excel* do pacote *MS Office 2013 BR*, em um microcomputador Intel, com sistema operacional *Windows 10 BR (x64)*. Nela foram inseridas as fórmulas =PROCV(A6;A4:E8;3;0) em D10 e =PROCH(B7;A4:E8;2;1) em E10.

	A	B	C	D	E
	 Prefeitura Municipal de Marcelândia				
1					
2					
3	#	DESCRIÇÃO	Qtde	Preço Unit.	Preço Total
4	1	NOTEBOOK i7	25	R\$4.500,00	R\$112.500,00
5	2	SSD 480 GB	30	R\$500,00	R\$15.000,00
6	3	PENDRIVE 16 GB	3	R\$2.400,00	R\$7.200,00
7	4	SCANNER	2	R\$2.100,00	R\$4.200,00
8	5	MULTIFUNCIONAL	7	R\$1.780,00	R\$12.460,00
9					
10	PROCV/PROCH =			?	?
11					

Nesse contexto, o número mostrado em D10 e a descrição exibida em D9 são, respectivamente:

- A) 3 e SSD 480 GB
- B) 25 e NOTEBOOK i7
- C) 7 e MULTIFUNCIONAL
- D) 30 e PENDRIVE 16 GB

15. Tanto no *Windows 10 BR* como no *Windows 11 BR*, após a utilização de um pendrive para armazenar ou mesmo consultar dados e informações, deve-se acionar um ícone que tem por significado "Remover Hardware e Ejetar Mídia com Segurança", existente em uma das Barras do sistema operacional. No que diz respeito à integridade das informações armazenadas, a realização desse procedimento é imprescindível, para evitar qualquer dano ao pendrive. O nome pelo qual é conhecida essa Barra e o ícone acionado estão indicados, respectivamente, na seguinte opção de resposta:

- A) de Notificações e 
- B) de Notificações e 
- C) de Status e 
- D) de Status e 

16. No que diz respeito às redes de computadores, os roteadores atuais empregam na conexão *wi-fi* um protocolo de configuração dinâmica de *host* em redes, diretamente associado a um servidor TCP/IP. Sem que o usuário perceba, ao se conectar em uma rede, esse serviço fornece automaticamente endereço IP, máscara de sub-rede, *gateway* padrão, endereço IP de um ou mais servidores DNS/WINS e sufixos de pesquisa do DNS, para que o dispositivo do usuário possa utilizar a rede e obter acesso aos recursos disponibilizados nela e acesso à internet, se houver. Esse serviço é conhecido pela sigla:

- A) IPCONFIG
B) TRACERT
C) SNMP
D) DHCP

17. No que se relaciona ao uso dos recursos de três dos principais browsers utilizados na navegação em sites da *internet*, como o *Google Chrome*, o *Microsoft Edge* e o *Firefox Mozilla*, em suas últimas versões, instalados e configurados em microcomputadores e *notebooks*, a execução de um atalho de teclado tem por função inserir e/ou remover a Barra de Favoritos. Esse atalho de teclado corresponde a pressionar, simultaneamente e em sequência, as teclas Ctrl, Shift e:

- A) T
B) V
C) B
D) F

18. No que tange às ferramentas *Google*, uma é uma plataforma de videoconferência que permite realizar chamadas com áudio e vídeo para várias pessoas ao mesmo tempo, possibilitando realizar reuniões, aulas e eventos online, independentemente da localização geográfica dos participantes. Entre as características desse recurso, pode-se compartilhar a tela, apresentações e documentos em tempo real, transformando-o em uma ferramenta útil para trabalhar remotamente, colaborar com colegas e realizar apresentações online. Além disso, é fácil de usar e pode ser acessada diretamente no navegador da *web*, sem a necessidade de instalar qualquer *software* adicional. Essa ferramenta é conhecida como:

- A) *Google Meet*
B) *Google Team*
C) *Google Gemini*
D) *Google Workspace*

RACIOCÍNIO LÓGICO E MATEMÁTICO

19. Um aluno obteve notas $N_1=7,0$ e $N_2=8,0$ em duas provas com pesos $P_1=2$ e $P_2=3$, respectivamente. Ele fez uma terceira avaliação com nota $N_3=9,0$ e peso P_3 . Se a Média Ponderada final foi de $8,0$, o valor de P_3 é igual a:

- A) 1
B) 1,5
C) 2
D) 2,5

20. Dados um triângulo equilátero e um hexágono regular, sabendo que ambos possuem o mesmo perímetro e que a área do hexágono regular é igual a $6 m^2$. Nessas condições, a área do triângulo equilátero é igual a:

- A) $2 m^2$
B) $3 m^2$
C) $4 m^2$
D) $6 m^2$

21. De um grupo de 10 mulheres e 8 homens, deseja-se formar uma equipe de 6 pessoas. O número de maneiras de formar a equipe, onde o número de mulheres é o dobro do número de homens é igual a:

- A) 5.880
B) 6.780
C) 7.680
D) 8.550

22. Em uma pesquisa de mercado, 1200 pessoas foram entrevistadas sobre o consumo dos produtos A, B e C. Sabe-se que 150 consomem apenas A, 200 consomem apenas B, 250 consomem apenas C. Além disso, 100 consomem A e B, 80 consomem B e C, e 70 consomem A e C. Se 30 pessoas consomem os três produtos, então o número de pessoas que consomem exatamente dois produtos é igual a:

- A) 80
B) 160
C) 220
D) 280

23. Considere dois conjuntos A e B com $|A|=15$, $|B|=20$ e $|A \cup B|=28$. Nessas condições a cardinalidade do conjunto $\mathcal{P}(A \cap B)$, ou seja, o número de subconjuntos da interseção é igual a:

- A) 7
B) 20
C) 80
D) 128

24. Um celular custa R\$ 2.500,00 e é vendido com um desconto de 20%. No momento da compra, é aplicado um imposto de 10% sobre o preço final com desconto. O preço final pago na compra foi de:

- A) R\$ 2.100,00
B) R\$ 2.200,00
C) R\$ 2.300,00
D) R\$ 2.400,00

CONHECIMENTOS ESPECÍFICOS

25. A interpretação da lei tributária pode ser realizada por meio de mais de uma técnica. Na ausência de disposição expressa, a autoridade competente para aplicar a legislação tributária utilizará prioritariamente:

- A) os princípios gerais de direito tributário
- B) os princípios gerais de direito público
- C) a equidade
- D) a analogia

26. A relação jurídica tributária é estabelecida entre sujeitos que atuam nos polos passivo e ativo. De acordo com o disposto no Código Tributário do município de Marcelândia:

- A) apenas a pessoa obrigada à prática de atos comissivos discriminados na legislação tributária do Município, que não configure obrigação acessória, é considerada sujeito ativo da obrigação principal
- B) toda obrigação acessória tem como sujeito passivo o responsável tributário investido de relação pessoal e direta com a situação que constitui o fato gerador
- C) a pessoa pode ser sujeito passivo da obrigação principal ainda que não tenha relação pessoal e direta com a situação que constitua o respectivo fato gerador
- D) a pessoa obrigada ao pagamento de penalidade pecuniária fiscal não pode ser sujeito passivo da obrigação tributária principal

27. A autoridade administrativa é dotada de competência privativa para constituir o crédito tributário. Essa ação ocorre por meio do lançamento, que é o procedimento administrativo que detém entre seus objetivos:

- A) selecionar o sujeito ativo do tributo
- B) calcular o montante do tributo devido
- C) determinar as formas de extinção da obrigação tributária
- D) definir a hipótese de incidência do fato gerador da obrigação tributária

28. O depósito do montante integral do tributo devido é uma das hipóteses que suspende a exigibilidade do crédito tributário. Nessa situação, o depósito deve ser feito pelo sujeito passivo no caso de:

- A) lançamento direto
- B) lançamento por declaração
- C) lançamento por homologação
- D) aplicação de penalidades pecuniárias

29. O estatuto dos Servidores Públicos do Município de Marcelândia do Estado de Mato Grosso dispõe sobre as hipóteses para o ingresso, o provimento e a vacância dos cargos públicos municipais. Nesse sentido, para a investidura em cargo público é exigido(a):

- A) naturalidade brasileira
- B) gozo dos direitos políticos
- C) idade mínima de 21 (vinte e um) anos
- D) nível superior de escolaridade exigido para o exercício dos cargos

30. Ao servidor são devidas vantagens de natureza indenizatória de caráter pecuniário com a finalidade de cobrir custos específicos ou compensar danos. É uma modalidade de indenização:

- A) o provento
- B) o subsídio
- C) a ajuda de custo
- D) o adicional de férias

31. A licença para tratamento de saúde, será concedida mediante notificação do interessado ou de seu representante regularmente constituído, se atestada a sua necessidade por laudo de junta médica do Município. Essa imposição legal presente no Estatuto dos Servidores Públicos do Município de Marcelândia também se aplica à licença:

- A) à gestante
- B) por acidente
- C) para adoção
- D) por paternidade

32. A administração pública pode contratar profissionais por tempo determinado, sem criar vínculo permanente, para atender necessidades urgentes. O Estatuto dos Servidores Públicos do Município de Marcelândia contém a seguinte previsão a respeito dessa modalidade de contratação:

- A) admissão de pessoal em caráter temporário poderá ser condicionada, a critério do chefe do executivo municipal, à comprovação do estado de saúde física e mental, mediante laudo de perícia médica
- B) o pessoal admitido para atender às necessidades temporárias de excepcional interesse público não será inscrito como contribuinte obrigatório do Regime Geral de Previdência – INSS
- C) nas admissões por tempo determinado terá como vencimento base o salário inicial do cargo para qual foi contratado, constante no plano de carreira do órgão ou entidade contratante
- D) em regra, é permitida a contratação de servidor em caráter temporário mesmo que na existência concurso público para os cargos efetivos para a função a que se pretende contratar

33. O Município elaborará o seu plano diretor nos limites da competência municipal, das funções da vida coletiva, abrangendo habitação, trabalho, circulação, recreação e considerando em conjunto os aspectos físicos, econômicos, sociais e administrativos. No aspecto físico territorial o plano deverá conter normas que tratem:

- A) do desenvolvimento econômico e integração da economia municipal à regional
- B) do bem-estar da comunidade a serem promovidas mediante a oferta de serviços públicos locais
- C) da organização institucional que possibilite a permanente planificação das atividades públicas municipais
- D) dos sistemas viário, urbano e rural, zoneamento urbano, loteamento urbano, edificação e serviços públicos locais

34. O Poder Legislativo de Marcelândia é concentrado na Câmara Municipal, onde a função legislativa é primordialmente exercida. Nos moldes do disposto pela Lei Orgânica de Marcelândia, compete em caráter privativo à Câmara Municipal dispor, independentemente da sanção de integrante de Poder, especificamente sobre:

- A) concessão de licença e autorização para o Prefeito e o Vice-Prefeito ausentarem-se do Município por mais de quinze dias, e do País, por qualquer prazo
- B) criação, transformação e extinção de cargos, empregos e funções públicas municipais na administração pública direta e indireta
- C) fixação do efetivo e organização de atividades da guarda municipal, atendidas as prescrições da legislação federal
- D) aquisição, permuta ou alienação a qualquer título, de bens públicos, na forma da lei

35. Com o objetivo de satisfazer o interesse público o prefeito ao prefeito é assegurado a capacidade de produzir uma série de atos administrativos que se distinguem pelo conteúdo emanado. A portaria é uma modalidade de ato que serve para:

- A) criação, alteração e extinção de órgãos da Prefeitura, quando autorizadas em Lei
- B) definição da competência dos órgãos e das atribuições dos servidores da Prefeitura, não privativas de Lei
- C) declaração de utilidade pública ou de interesse social para efeito de desapropriação ou servidão administrativa
- D) provimento e vacância de cargos públicos e demais atos de efeito individual relativos aos servidores municipais

36. A Constituição atribui competência tributária aos entes da Federação para a instituição de tributos. Ao município compete instituir imposto sobre:




- A) patrimônio pertencente ao estado
- B) doações ou transmissão hereditária ou por testamento de bens e direito
- C) transmissão inter vivos, a qualquer título por ato oneroso de bens imóveis
- D) exercício do poder de polícia ou pela utilização de serviços públicos específicos e divisíveis

37. No operação com microcomputadores e *notebooks*, é comum utilizar dispositivos que atuam na entrada dos dados a serem processados pela máquina, como na saída dos dados já processados. Dois exemplos de dispositivos que operam exclusivamente na entrada dos dados são, respectivamente:


- A) mouse e plotter
- B) teclado e mouse
- C) plotter e pendrive
- D) pendrive e teclado

38. No uso dos recursos do Word 2010 Br do pacote MS Office, instalado em um microcomputador Intel com sistema operacional Windows 10 BR (x64), após digitar um texto nesse editor é comum salvar o trabalho realizado em um documento, por meio do acionamento de um ícone exibido na Barra de Ferramentas de Acesso Rápido.

Esse ícone é:

- A) 
- B) 
- C) 
- D) 

39. A planilha da figura foi criada no *Excel* do pacote MS Office 2010 BR, em um *notebook* com sistema operacional Windows 11 BR (x64). Em D4 foi inserida uma fórmula que adiciona exclusivamente os números mostrados na células A3 e A6, enquanto que em D6, uma outra que determina o valor da média aritmética entre todos os números mostrados nas células A3, A4, A5 e A6.

	A	B	C	D
	 Prefeitura Municipal de Marcelândia			
1				
2				
3	9			
4	7			12
5	1			
6	3			5

Nesse contexto, as fórmulas inseridas em D4 e D6 são, respectivamente:

- A) =SOMA(A3;A6) e =MÉDIA(A3;A6)
- B) =SOMA(A3;A6) e =MÉDIA(A3;A6)
- C) =SOMA(A3;A6) e =MÉDIA(A3;A6)
- D) =SOMA(A3;A6) e =MÉDIA(A3;A6)

40. Para utilizar um sistema de e-mail na *internet*, é necessário ter uma conta que segue regras bem definidas, enquanto que para navegar em sites utiliza-se um *software* conhecido como *browser*. Em conformidade com as regras, uma conta válida para uso e um exemplo de *browser* estão indicados na seguinte opção de resposta:

- A) ouvidoria\$marcelandia.mt.gov.br e *Google Meet*
- B) ouvidoria#marcelandia.mt.gov.br e *Google Drive*
- C) ouvidoria@marcelandia.mt.gov.br e *Google Chrome*
- D) ouvidoria%marcelandia.mt.gov.br e *Google Workspace*



RA SCUNHO



Prefeitura Municipal de
Marcelândia

CONCURSO PÚBLICO
PREFEITURA DO MUNICÍPIO DE MARCELÂNDIA - MT

EDITAL N.º 01/2025

ASSISTENTE ADMINISTRATIVO

Duração: 4h (quatro horas)

Leia atentamente as instruções abaixo:

01 Você recebeu do fiscal o seguinte material:

a) Este caderno, com **40 (quarenta)** questões da prova objetiva, sem repetição ou falha, conforme distribuição abaixo:

CONHECIMENTOS BÁSICOS			CONHECIMENTOS ESPECÍFICOS
LÍNGUA PORTUGUESA	NOÇÕES DE INFORMÁTICA	RACIOCÍNIO LÓGICO-MATEMÁTICO	
1 a 12	13 a 18	19 a 24	25 a 40

b) Um cartão de respostas destinado à marcação da alternativa correta.

- 02** Verifique se este material está em ordem e se o seu nome, RG, cargo e número de inscrição conferem com os dados que aparecem no cartão de respostas. Caso contrário, notifique imediatamente o fiscal.
- 03** Após a conferência, o candidato deverá assinar no espaço próprio do cartão de respostas, com caneta esferográfica de tinta na cor azul ou preta.
- 04** No cartão de respostas da prova objetiva, a marcação da alternativa correta deve ser feita cobrindo a letra correspondente ao número da questão e preenchendo todo o espaço interno, com caneta esferográfica de tinta na cor azul ou preta, de forma contínua e densa.

Exemplo: A B C D

- 05** Para cada uma das questões objetivas, são apresentadas **4 (quatro) alternativas** classificadas com as letras (A, B, C e D), mas só uma responde adequadamente à questão proposta. Você só deve assinalar uma alternativa. A marcação em mais de uma alternativa anula a questão, mesmo que uma das respostas esteja correta.
- 06** O candidato poderá entregar seu cartão de respostas, seu caderno de questões e retirar-se da sala de prova somente depois de decorrida **1 (uma) hora** do início da prova. O candidato que insistir em sair da sala de prova, descumprindo o aqui disposto, deverá assinar o termo de ocorrência declarando sua desistência do certame, que será lavrado pelo coordenador do local.
- 07** Não será permitido ao candidato retirar-se do local de aplicação das provas, a qualquer tempo, portando o caderno de questões.
- 08** Será fornecida pelo INSTITUTO SELECON uma folha específica para rascunho, na qual o candidato poderá anotar manualmente as alternativas marcadas no respectivo cartão de respostas. **O candidato que se retirar da sala levando o cartão de respostas estará automaticamente eliminado do certame.**
- 09** Reserve os **30 (trinta)** minutos finais para marcar seu cartão de respostas. Os rascunhos e as marcações assinaladas no caderno de questões não serão levados em consideração.
- 10** Os **3 (três)** últimos candidatos permanecerão sentados até que todos concluem a prova ou que termine o seu tempo de duração, devendo assinar a ata de sala e retirar-se juntos.

LÍNGUA PORTUGUESA

Leia o texto a seguir:

SES distribui 500 mil doses e incentiva campanha de multivacinação de crianças e adolescentes de até 15 anos

A Secretaria de Estado de Saúde (SES) distribuiu 500 mil doses de vacina para que os 142 municípios do Estado realizem ações da Campanha Nacional de Multivacinação, entre os dias 6 e 31 de outubro. A iniciativa do Ministério da Saúde, em parceria com Estados e prefeituras, é voltada para o público de até 15 anos de idade.

O Dia D de mobilização está marcado para 18 de outubro (sábado), quando os postos de saúde ficarão abertos em todo o país para atender a população.

"É muito importante que todos, em especial crianças e adolescentes, mantenham a caderneta atualizada. Todas as doses previstas no Calendário Nacional de Vacinação estarão à disposição da população de Mato Grosso. O Dia D, que vai ocorrer em um sábado, será mais uma oportunidade para que os pais e responsáveis possam proteger as nossas crianças", destacou o secretário de Estado de Saúde, Gilberto Figueiredo.

Segundo a superintendente de Vigilância em Saúde da SES, Alessandra Moraes, os não vacinados contra o HPV (papilomavírus humano), febre amarela e sarampo estão entre as prioridades da campanha.

"Precisamos reforçar a prevenção contra o sarampo em todo o Estado, principalmente pela proximidade com a Bolívia, onde houve um surto de casos. Por isso, essa vacina será oferecida também aos adultos até 59 anos. É muito importante que nós atinjamos alta cobertura vacinal para prevenir a reintrodução da doença no Brasil", esclareceu Alessandra.

Até 1º de outubro de 2025, o Brasil confirmou 31 casos importados, quando a infecção ocorre fora do país. Em Mato Grosso, foram registrados três casos no município de Primavera do Leste.

Durante a campanha, estarão disponíveis vacinas contra BCG, rotavírus, pneumocócica-10 valente, meningocócica C, meningocócica ACWY, pentavalente, poliomielite, febre amarela, tríplice viral, varicela, hepatite A, hepatite B, dupla adulto, HPV e dTpa.

De acordo com o coordenador estadual de Imunização, Marx Camarão, a SES tem mantido um diálogo constante com os municípios para garantir que a vacinação seja ampliada de forma eficaz durante toda a campanha.

"Trabalhamos juntos para otimizar a distribuição de doses e mobilizar as equipes de saúde, assegurando que todos os cidadãos tenham acesso a essa importante medida de proteção. O objetivo é alcançar o maior número de pessoas possível, priorizando as áreas com maior vulnerabilidade e garantindo a continuidade das ações de imunização", afirmou o coordenador.

Com cobertura vacinal de 98,9%, a dose contra BCG é a única no Estado que está acima da ideal, de 90%. As vacinas contra rotavírus e HPV têm a mesma meta, mas estão, respectivamente, com cobertura de 84,13% e de 85,54% em meninas e de 72,23% em meninos.

As outras vacinas têm cobertura ideal de 95%, mas, conforme atualização do painel nesta terça-feira (7.10), estão abaixo do desejado: pneumocócica-10: 87%; meningocócica C: 83,8%; poliomielite: 81,1%; febre amarela: 72,4%; pentavalente: 81,7%; tríplice viral: 89,9%; varicela: 67,8%; e hepatite A: 77,9%.

Fonte: <https://jornaldematogrosso.com.br/noticia/136410/ses-distribui-500-mil-doses-e-incentiva-campanha-de-multivacinacao-de-criancas-e-adolescentes-de-ate.html>. Acesso em 09/10/2025

1. O texto tem como propósito principal:

- A) relatar os casos recentes de sarampo e o surto ocorrido na Bolívia
- B) anunciar a criação de novas vacinas voltadas para o público infantojuvenil
- C) apresentar críticas à baixa cobertura vacinal no estado do Mato Grosso
- D) divulgar e incentivar a adesão à Campanha Nacional de Multivacinação

2. A justificativa dada pela superintendente de Vigilância Sanitária em Saúde da SES para reforçar a vacinação contra o sarampo está diretamente relacionada à:

- A) necessidade de incluir novas vacinas no calendário infantil
- B) alta cobertura vacinal entre adolescentes e jovens
- C) existência de um surto da doença na Bolívia
- D) interrupção das campanhas anteriores

3. O posicionamento do secretário de Estado de Saúde, no terceiro parágrafo do texto, revela que ele:

- A) considera o Dia D uma iniciativa desnecessária, mas protocolar
- B) sugere priorizar apenas as vacinas de maior risco epidemiológico
- C) enfatiza a importância de campanhas apenas para o público infantil
- D) demonstra preocupação com o engajamento das famílias na imunização

4. O sétimo parágrafo do texto lista as vacinas disponíveis durante a campanha. Essa lista tem a função de:

- A) destacar as vacinas que terão prioridade no Dia D
- B) comprovar a complexidade logística envolvida na campanha
- C) ilustrar a abrangência do atendimento oferecido à população
- D) apresentar apenas as vacinas com cobertura vacinal insuficiente

5. No trecho "Precisamos reforçar a prevenção contra o sarampo em todo o Estado, principalmente pela proximidade com a Bolívia, onde houve um surto de casos. Por isso, **essa vacina** será oferecida também aos adultos até 59 anos" (5º parágrafo), o termo em destaque refere-se a:

- A) HPV
- B) sarampo
- C) hepatite A
- D) febre amarela

6. “**É muito importante** que todos, em especial crianças e adolescentes, mantenham a caderneta atualizada” (3º parágrafo). A expressão em destaque cumpre a função de:

- A) atenuar a obrigação expressa pela frase
- B) expressar dúvida sobre a eficácia das vacinas
- C) apresentar um fato comprovado cientificamente
- D) introduzir uma recomendação com valor de apelo

7. “A iniciativa do Ministério da Saúde, em parceria com Estados e prefeituras, é **voltada** para o público de até 15 anos de idade” (1º parágrafo). A palavra em destaque faz referência direta ao termo:

- A) iniciativa
- B) Saúde
- C) parceria
- D) idade

8. “O Dia D, **que** vai ocorrer em um sábado, será mais uma oportunidade para que os pais e responsáveis possam proteger as nossas crianças” (3º parágrafo). Nesse trecho, a palavra em destaque é classificada como:

- A) pronome relativo
- B) conjunção integrante
- C) conjunção coordenativa
- D) conjunção subordinativa

9. “**Segundo** a superintendente de Vigilância em Saúde da SES, Alessandra Moraes, os não vacinados contra o HPV (papilomavírus humano), febre amarela e sarampo estão entre as prioridades da campanha” (4º parágrafo). O conectivo em destaque poderia ser substituído, sem alteração de sentido, por:

- A) a menos que
- B) conforme
- C) inclusive
- D) já que

10. “Até 1º de outubro de 2025, o Brasil **confirmou** 31 casos importados, quando a infecção ocorre fora do país” (6º parágrafo). Se a forma verbal em destaque estivesse flexionada no pretérito imperfeito do modo indicativo, teríamos:

- A) confirmaria
- B) confirmava
- C) confirmara
- D) confirmasse

11. “Até 1º de outubro de 2025, **o Brasil** confirmou 31 casos importados” (6º parágrafo). O trecho em destaque pode ser classificado sintaticamente como:









- A) sujeito
- B) aposto
- C) vocativo
- D) predicado

12. Na palavra **VACINAS**, o elemento em destaque tem a mesma função e o mesmo significado do que está indicado em:


- A) lápis
- B) vírus
- C) tropas
- D) ônibus

NOÇÕES DE INFORMÁTICA

13. No que se refere aos conceitos básicos do *Word* no pacote *MS Office* da plataforma *Microsoft 365 BR*, acessado na *web*, um funcionário que exerce as funções de técnico nível médio da Prefeitura de Marcelândia acionou dois ícones: o primeiro para alterar a cor da fonte e o segundo para aplicar um novo espaçamento entre as linhas de um parágrafo. Esses ícones foram, respectivamente:

- A)  e 
- B)  e 
- C)  e 
- D)  e 





14. A planilha da figura foi criada no *Excel* do pacote *MS Office 2013 BR*, em um microcomputador Intel, com sistema operacional *Windows 10 BR (x64)*. Nela foram inseridas as fórmulas =PROCV(A6;A4:E8;3;0) em D10 e =PROCH(B7;A4:E8;2;1) em E10.

	A	B	C	D	E
	 Prefeitura Municipal de Marcelândia				
1					
2					
3	#	DESCRIÇÃO	Qtde	Preço Unit.	Preço Total
4	1	NOTEBOOK i7	25	R\$4.500,00	R\$112.500,00
5	2	SSD 480 GB	30	R\$500,00	R\$15.000,00
6	3	PENDRIVE 16 GB	3	R\$2.400,00	R\$7.200,00
7	4	SCANNER	2	R\$2.100,00	R\$4.200,00
8	5	MULTIFUNCIONAL	7	R\$1.780,00	R\$12.460,00
9					
10	PROCV/PROCH =			?	?
11					

Nesse contexto, o número mostrado em D10 e a descrição exibida em D9 são, respectivamente:

- A) 3 e SSD 480 GB
- B) 25 e NOTEBOOK i7
- C) 7 e MULTIFUNCIONAL
- D) 30 e PENDRIVE 16 GB

15. Tanto no *Windows 10 BR* como no *Windows 11 BR*, após a utilização de um pendrive para armazenar ou mesmo consultar dados e informações, deve-se acionar um ícone que tem por significado "Remover Hardware e Ejetar Mídia com Segurança", existente em uma das Barras do sistema operacional. No que diz respeito à integridade das informações armazenadas, a realização desse procedimento é imprescindível, para evitar qualquer dano ao pendrive. O nome pelo qual é conhecida essa Barra e o ícone acionado estão indicados, respectivamente, na seguinte opção de resposta:

- A) de Notificações e 
- B) de Notificações e 
- C) de Status e 
- D) de Status e 

16. No que diz respeito às redes de computadores, os roteadores atuais empregam na conexão *wi-fi* um protocolo de configuração dinâmica de *host* em redes, diretamente associado a um servidor TCP/IP. Sem que o usuário perceba, ao se conectar em uma rede, esse serviço fornece automaticamente endereço IP, máscara de sub-rede, *gateway* padrão, endereço IP de um ou mais servidores DNS/WINS e sufixos de pesquisa do DNS, para que o dispositivo do usuário possa utilizar a rede e obter acesso aos recursos disponibilizados nela e acesso à internet, se houver. Esse serviço é conhecido pela sigla:

- A) IPCONFIG
B) TRACERT
C) SNMP
D) DHCP

17. No que se relaciona ao uso dos recursos de três dos principais browsers utilizados na navegação em sites da *internet*, como o *Google Chrome*, o *Microsoft Edge* e o *Firefox Mozilla*, em suas últimas versões, instalados e configurados em microcomputadores e *notebooks*, a execução de um atalho de teclado tem por função inserir e/ou remover a Barra de Favoritos. Esse atalho de teclado corresponde a pressionar, simultaneamente e em sequência, as teclas Ctrl, Shift e:

- A) T
B) V
C) B
D) F

18. No que tange às ferramentas *Google*, uma é uma plataforma de videoconferência que permite realizar chamadas com áudio e vídeo para várias pessoas ao mesmo tempo, possibilitando realizar reuniões, aulas e eventos online, independentemente da localização geográfica dos participantes. Entre as características desse recurso, pode-se compartilhar a tela, apresentações e documentos em tempo real, transformando-o em uma ferramenta útil para trabalhar remotamente, colaborar com colegas e realizar apresentações online. Além disso, é fácil de usar e pode ser acessada diretamente no navegador da *web*, sem a necessidade de instalar qualquer *software* adicional. Essa ferramenta é conhecida como:

- A) *Google Meet*
B) *Google Team*
C) *Google Gemini*
D) *Google Workspace*

RACIOCÍNIO LÓGICO E MATEMÁTICO

19. Um aluno obteve notas $N_1=7,0$ e $N_2=8,0$ em duas provas com pesos $P_1=2$ e $P_2=3$, respectivamente. Ele fez uma terceira avaliação com nota $N_3=9,0$ e peso P_3 . Se a Média Ponderada final foi de $8,0$, o valor de P_3 é igual a:

- A) 1
B) 1,5
C) 2
D) 2,5

20. Dados um triângulo equilátero e um hexágono regular, sabendo que ambos possuem o mesmo perímetro e que a área do hexágono regular é igual a $6 m^2$. Nessas condições, a área do triângulo equilátero é igual a:

- A) $2 m^2$
B) $3 m^2$
C) $4 m^2$
D) $6 m^2$

21. De um grupo de 10 mulheres e 8 homens, deseja-se formar uma equipe de 6 pessoas. O número de maneiras de formar a equipe, onde o número de mulheres é o dobro do número de homens é igual a:

- A) 5.880
B) 6.780
C) 7.680
D) 8.550

22. Em uma pesquisa de mercado, 1200 pessoas foram entrevistadas sobre o consumo dos produtos A, B e C. Sabe-se que 150 consomem apenas A, 200 consomem apenas B, 250 consomem apenas C. Além disso, 100 consomem A e B, 80 consomem B e C, e 70 consomem A e C. Se 30 pessoas consomem os três produtos, então o número de pessoas que consomem exatamente dois produtos é igual a:

- A) 80
B) 160
C) 220
D) 280

23. Considere dois conjuntos A e B com $|A|=15$, $|B|=20$ e $|A \cup B|=28$. Nessas condições a cardinalidade do conjunto $\mathcal{P}(A \cap B)$, ou seja, o número de subconjuntos da interseção é igual a:

- A) 7
B) 20
C) 80
D) 128

24. Um celular custa R\$ 2.500,00 e é vendido com um desconto de 20%. No momento da compra, é aplicado um imposto de 10% sobre o preço final com desconto. O preço final pago na compra foi de:

- A) R\$ 2.100,00
B) R\$ 2.200,00
C) R\$ 2.300,00
D) R\$ 2.400,00

CONHECIMENTOS ESPECÍFICOS

25. Em um órgão federal, processos administrativos finalizados há cinco anos permanecem sob a guarda dos setores de origem, ocupando espaço físico e comprometendo o fluxo de novos documentos. A auditoria identifica ausência de gestão documental. Segundo a teoria arquivística, a medida mais adequada é:

- A) descartá-los após consulta à chefia imediata
- B) mantê-los no arquivo corrente até a digitalização completa
- C) enviar os documentos diretamente ao arquivo permanente
- D) transferi-los ao arquivo intermediário, após avaliação documental

26. A Secretaria de Administração de um município contratou uma empresa para executar serviços de manutenção predial. O contrato foi devidamente firmado e os serviços foram realizados, mas a publicação do contrato no Diário Oficial não ocorreu, sob a justificativa de “economia de tempo”. Um servidor, ao analisar o caso, alertou ao gestor de que a omissão feria um princípio constitucional da Administração Pública. Considerando os princípios constitucionais aplicáveis à Administração Pública, o princípio violado foi:

- A) eficiência
- B) moralidade
- C) publicidade
- D) impessoalidade

27. Um departamento do Ministério da Educação deseja propor uma ação judicial contra outro órgão da Administração Direta por divergência de competências. O procurador alerta que o órgão não possui personalidade jurídica própria. Diante disso, conclui-se que o órgão:

- A) deve recorrer ao STF para resolver o conflito
- B) pode litigar, pois possui autonomia funcional
- C) depende de autorização ministerial para processar outro órgão
- D) não tem legitimidade processual, pois integra a mesma pessoa jurídica da União

28. O Ministério da Saúde decide criar uma entidade com personalidade jurídica própria, autonomia administrativa e financeira, mas sujeita ao controle finalístico do Estado. Essa nova entidade prestará serviço público de forma descentralizada, sem fins lucrativos. Com base na estrutura da Administração Pública Federal, trata-se de uma:

- A) autarquia
- B) empresa pública
- C) fundação pública
- D) sociedade de economia mista

29. Um banco público federal solicita autorização para ampliar linhas de crédito subsidiadas a pequenas empresas. O processo chega à Casa Civil, que redireciona o pedido ao Ministério competente. De acordo com as atribuições legais, o assunto deve ser tratado pelo Ministério da(o):

- A) empreendedorismo, da microempresa e da empresa de pequeno porte
- B) desenvolvimento, indústria, comércio e serviços
- C) planejamento e orçamento
- D) fazenda

30. Um servidor da Receita Federal nega a concessão de um benefício fiscal solicitado por uma empresa, justificando que a lei, não prevê margem de escolha quanto aos requisitos exigidos. O empresário argumenta que o servidor deveria ter analisado as circunstâncias do caso concreto. Nesse cenário, o servidor atuou com base no poder:

- A) vinculado
- B) hierárquico
- C) discricionário
- D) regulamentar

31. O município de Marcelândia decide criar uma Coordenação de Gestão Documental vinculada à Secretaria de Administração, subordinando a ela os setores de protocolo, arquivo corrente e arquivo intermediário. Sob o ponto de vista da Teoria da Administração, essa estrutura é:

- A) linear, porque centraliza a autoridade decisória
- B) horizontal, por eliminar níveis hierárquicos intermediários
- C) matricial, por envolver projetos temporários e múltiplas chefias
- D) funcional, pois especializa atividades e define competências por funções

32. Em uma secretaria municipal de saúde, o gestor institui um benefício adicional aos servidores sem previsão normativa formal, alegando finalidade de melhoria da motivação e da produtividade, respaldada por uma interpretação extensiva do interesse público. Um servidor contesta a medida, sustentando que a Administração Pública está vinculada ao regime de legalidade e que atos sem base legal são nulos. Considerando a natureza hierárquica da Administração, o regime jurídico dos atos administrativos e a atuação administrativa sob o princípio da finalidade, é correto afirmar que:

- A) a atuação do gestor pode ser legitimada pela busca do interesse público desde que haja parecer interno de comissão de avaliação de desempenho, mesmo sem base normativa formal, pois a eficiência administrativa justifica flexibilização da legalidade
- B) a criação de benefício sem base legal infringe o princípio da legalidade e, por consequência, é ilegal, independentemente de motivação ou parecer técnico que a endosse
- C) em situações excepcionais de necessidade imperiosa, a administração pode por meio de decreto ou ato administrativo infralegal, criar benefícios não previstos em lei, desde que haja justificativa de interesse público e aprovação pelo órgão político competente
- D) o ato pode ser considerado lícito se for incidental ao exercício do poder regulamentar conferido pelo prefeito, desde que a finalidade seja administrativa, ainda que não haja previsão legal específica para o benefício

33. Um hospital público municipal enfrenta queda de produtividade entre técnicos de enfermagem. O gestor decide adotar um sistema de reconhecimento simbólico e flexibilizar escalas de plantão. A estratégia está fundamentada na teoria motivacional:

- A) X e Y, de McGregor
- B) da Expectativa, de Vroom
- C) das Necessidades, de Maslow
- D) dos Dois Fatores, de Herzberg

34. Em uma secretaria municipal, a constante rotatividade de pessoal e o excesso de pressão por metas provocam queda no moral da equipe. A gestão decide aplicar uma pesquisa de clima organizacional. O objetivo principal dessa ação é:

- A) avaliar as competências técnicas dos servidores
- B) diagnosticar falhas na estrutura formal da organização
- C) identificar fatores subjetivos que impactam a motivação e o desempenho
- D) mensurar a eficiência produtiva da equipe

35. Durante uma audiência pública para discutir a Lei Orçamentária Anual (LOA), um grupo de moradores questiona a destinação de recursos para a área da saúde e apresenta propostas alternativas ao poder executivo municipal. Essa forma de envolvimento popular caracteriza o exercício concreto de:

- A) ação consultiva sem valor deliberativo e, portanto, sem relevância democrática
- B) controle social e cidadania participativa, baseados na corresponsabilidade entre estado e sociedade
- C) direito político restrito ao sufrágio universal e ao voto direto
- D) soberania nacional, expressa pela autodeterminação do povo

36. Um diretor de órgão público divulga apenas parte dos dados de licitação em redes sociais institucionais, omitindo informações sobre valores e prazos. Essa conduta fere o princípio da:

- A) eficiência administrativa
- B) legalidade estrita
- C) moralidade administrativa
- D) supremacia do interesse público

37. Durante uma reunião administrativa, a gestora de um órgão público solicitou a revisão de um ofício encaminhado a outro ente federativo, pois o texto continha expressões como “achamos conveniente” e “esperamos que entendam nossa posição”. Segundo o Manual de Redação da Presidência da República (2019), a redação oficial deve prezar por:

- A) autonomia expressiva e estilo pessoal
- B) clareza, impessoalidade e objetividade
- C) criatividade e linguagem coloquial
- D) formalismo excessivo e tecnicismo jurídico

38. Durante o protocolo matutino, chegam simultaneamente uma correspondência urgente do Ministério da Saúde e um relatório informativo interno. O atendente opta por registrar primeiro o relatório, deixando a correspondência ministerial para o turno seguinte. A falha está relacionada ao descumprimento do critério de:

- A) classificação por relevância e prioridade
- B) hierarquia de origem administrativa
- C) ordem cronológica de recebimento
- D) temporalidade do documento

39. Durante uma crise diplomática, o Brasil foi pressionado a adotar sanções econômicas contra um país sul-americano, contrariando seus próprios interesses estratégicos. O Itamaraty defendeu a neutralidade com base nos princípios constitucionais das relações internacionais. A decisão se fundamenta no princípio da:

- A) intervenção humanitária
- B) autodeterminação dos povos
- C) dependência econômica recíproca
- D) supremacia das relações comerciais

40. A Prefeitura de Marcelândia decidiu alugar um imóvel público para uma empresa privada, visando gerar receita para o município. De acordo com o Art. 74 da Lei Orgânica, essa ação se enquadra como receita:

- A) corrente
- B) de capital
- C) originária
- D) transferida



RA SCUNHO



Prefeitura Municipal de
Marcelândia

CONCURSO PÚBLICO
PREFEITURA DO MUNICÍPIO DE MARCELÂNDIA - MT

EDITAL N.º 01/2025

AUXILIAR TÉCNICO ESPORTIVO

Duração: 4h (quatro horas)

Leia atentamente as instruções abaixo:

01 Você recebeu do fiscal o seguinte material:

a) Este caderno, com **40 (quarenta)** questões da prova objetiva, sem repetição ou falha, conforme distribuição abaixo:

CONHECIMENTOS BÁSICOS			CONHECIMENTOS ESPECÍFICOS
LÍNGUA PORTUGUESA	NOÇÕES DE INFORMÁTICA	RACIOCÍNIO LÓGICO-MATEMÁTICO	
1 a 12	13 a 18	19 a 24	25 a 40

b) Um cartão de respostas destinado à marcação da alternativa correta.

- 02** Verifique se este material está em ordem e se o seu nome, RG, cargo e número de inscrição conferem com os dados que aparecem no cartão de respostas. Caso contrário, notifique imediatamente o fiscal.
- 03** Após a conferência, o candidato deverá assinar no espaço próprio do cartão de respostas, com caneta esferográfica de tinta na cor azul ou preta.
- 04** No cartão de respostas da prova objetiva, a marcação da alternativa correta deve ser feita cobrindo a letra correspondente ao número da questão e preenchendo todo o espaço interno, com caneta esferográfica de tinta na cor azul ou preta, de forma contínua e densa.

Exemplo: A B C D

- 05** Para cada uma das questões objetivas, são apresentadas **4 (quatro) alternativas** classificadas com as letras (A, B, C e D), mas só uma responde adequadamente à questão proposta. Você só deve assinalar uma alternativa. A marcação em mais de uma alternativa anula a questão, mesmo que uma das respostas esteja correta.
- 06** O candidato poderá entregar seu cartão de respostas, seu caderno de questões e retirar-se da sala de prova somente depois de decorrida **1 (uma) hora** do início da prova. O candidato que insistir em sair da sala de prova, descumprindo o aqui disposto, deverá assinar o termo de ocorrência declarando sua desistência do certame, que será lavrado pelo coordenador do local.
- 07** Não será permitido ao candidato retirar-se do local de aplicação das provas, a qualquer tempo, portando o caderno de questões.
- 08** Será fornecida pelo INSTITUTO SELECON uma folha específica para rascunho, na qual o candidato poderá anotar manualmente as alternativas marcadas no respectivo cartão de respostas. **O candidato que se retirar da sala levando o cartão de respostas estará automaticamente eliminado do certame.**
- 09** Reserve os **30 (trinta)** minutos finais para marcar seu cartão de respostas. Os rascunhos e as marcações assinaladas no caderno de questões não serão levados em consideração.
- 10** Os **3 (três)** últimos candidatos permanecerão sentados até que todos concluem a prova ou que termine o seu tempo de duração, devendo assinar a ata de sala e retirar-se juntos.

LÍNGUA PORTUGUESA

Leia o texto a seguir:

SES distribui 500 mil doses e incentiva campanha de multivacinação de crianças e adolescentes de até 15 anos

A Secretaria de Estado de Saúde (SES) distribuiu 500 mil doses de vacina para que os 142 municípios do Estado realizem ações da Campanha Nacional de Multivacinação, entre os dias 6 e 31 de outubro. A iniciativa do Ministério da Saúde, em parceria com Estados e prefeituras, é voltada para o público de até 15 anos de idade.

O Dia D de mobilização está marcado para 18 de outubro (sábado), quando os postos de saúde ficarão abertos em todo o país para atender a população.

"É muito importante que todos, em especial crianças e adolescentes, mantenham a caderneta atualizada. Todas as doses previstas no Calendário Nacional de Vacinação estarão à disposição da população de Mato Grosso. O Dia D, que vai ocorrer em um sábado, será mais uma oportunidade para que os pais e responsáveis possam proteger as nossas crianças", destacou o secretário de Estado de Saúde, Gilberto Figueiredo.

Segundo a superintendente de Vigilância em Saúde da SES, Alessandra Moraes, os não vacinados contra o HPV (papilomavírus humano), febre amarela e sarampo estão entre as prioridades da campanha.

"Precisamos reforçar a prevenção contra o sarampo em todo o Estado, principalmente pela proximidade com a Bolívia, onde houve um surto de casos. Por isso, essa vacina será oferecida também aos adultos até 59 anos. É muito importante que nós atinjamos alta cobertura vacinal para prevenir a reintrodução da doença no Brasil", esclareceu Alessandra.

Até 1º de outubro de 2025, o Brasil confirmou 31 casos importados, quando a infecção ocorre fora do país. Em Mato Grosso, foram registrados três casos no município de Primavera do Leste.

Durante a campanha, estarão disponíveis vacinas contra BCG, rotavírus, pneumocócica-10 valente, meningocócica C, meningocócica ACWY, pentavalente, poliomielite, febre amarela, tríplice viral, varicela, hepatite A, hepatite B, dupla adulto, HPV e dTpa.

De acordo com o coordenador estadual de Imunização, Marx Camarão, a SES tem mantido um diálogo constante com os municípios para garantir que a vacinação seja ampliada de forma eficaz durante toda a campanha.

"Trabalhamos juntos para otimizar a distribuição de doses e mobilizar as equipes de saúde, assegurando que todos os cidadãos tenham acesso a essa importante medida de proteção. O objetivo é alcançar o maior número de pessoas possível, priorizando as áreas com maior vulnerabilidade e garantindo a continuidade das ações de imunização", afirmou o coordenador.

Com cobertura vacinal de 98,9%, a dose contra BCG é a única no Estado que está acima da ideal, de 90%. As vacinas contra rotavírus e HPV têm a mesma meta, mas estão, respectivamente, com cobertura de 84,13% e de 85,54% em meninas e de 72,23% em meninos.

As outras vacinas têm cobertura ideal de 95%, mas, conforme atualização do painel nesta terça-feira (7.10), estão abaixo do desejado: pneumocócica-10: 87%; meningocócica C: 83,8%; poliomielite: 81,1%; febre amarela: 72,4%; pentavalente: 81,7%; tríplice viral: 89,9%; varicela: 67,8%; e hepatite A: 77,9%.

Fonte: <https://jornaldematogrosso.com.br/noticia/136410/ses-distribui-500-mil-doses-e-incentiva-campanha-de-multivacinacao-de-criancas-e-adolescentes-de-ate.html>. Acesso em 09/10/2025

1. O texto tem como propósito principal:

- A) relatar os casos recentes de sarampo e o surto ocorrido na Bolívia
- B) anunciar a criação de novas vacinas voltadas para o público infantojuvenil
- C) apresentar críticas à baixa cobertura vacinal no estado do Mato Grosso
- D) divulgar e incentivar a adesão à Campanha Nacional de Multivacinação

2. A justificativa dada pela superintendente de Vigilância Sanitária em Saúde da SES para reforçar a vacinação contra o sarampo está diretamente relacionada à:

- A) necessidade de incluir novas vacinas no calendário infantil
- B) alta cobertura vacinal entre adolescentes e jovens
- C) existência de um surto da doença na Bolívia
- D) interrupção das campanhas anteriores

3. O posicionamento do secretário de Estado de Saúde, no terceiro parágrafo do texto, revela que ele:

- A) considera o Dia D uma iniciativa desnecessária, mas protocolar
- B) sugere priorizar apenas as vacinas de maior risco epidemiológico
- C) enfatiza a importância de campanhas apenas para o público infantil
- D) demonstra preocupação com o engajamento das famílias na imunização

4. O sétimo parágrafo do texto lista as vacinas disponíveis durante a campanha. Essa lista tem a função de:

- A) destacar as vacinas que terão prioridade no Dia D
- B) comprovar a complexidade logística envolvida na campanha
- C) ilustrar a abrangência do atendimento oferecido à população
- D) apresentar apenas as vacinas com cobertura vacinal insuficiente

5. No trecho "Precisamos reforçar a prevenção contra o sarampo em todo o Estado, principalmente pela proximidade com a Bolívia, onde houve um surto de casos. Por isso, essa vacina será oferecida também aos adultos até 59 anos" (5º parágrafo), o termo em destaque refere-se a:

- A) HPV
- B) sarampo
- C) hepatite A
- D) febre amarela

6. “**É muito importante** que todos, em especial crianças e adolescentes, mantenham a caderneta atualizada” (3º parágrafo). A expressão em destaque cumpre a função de:

- A) atenuar a obrigação expressa pela frase
- B) expressar dúvida sobre a eficácia das vacinas
- C) apresentar um fato comprovado cientificamente
- D) introduzir uma recomendação com valor de apelo

7. “A iniciativa do Ministério da Saúde, em parceria com Estados e prefeituras, é **voltada** para o público de até 15 anos de idade” (1º parágrafo). A palavra em destaque faz referência direta ao termo:

- A) iniciativa
- B) Saúde
- C) parceria
- D) idade

8. “O Dia D, **que** vai ocorrer em um sábado, será mais uma oportunidade para que os pais e responsáveis possam proteger as nossas crianças” (3º parágrafo). Nesse trecho, a palavra em destaque é classificada como:

- A) pronome relativo
- B) conjunção integrante
- C) conjunção coordenativa
- D) conjunção subordinativa

9. “**Segundo** a superintendente de Vigilância em Saúde da SES, Alessandra Moraes, os não vacinados contra o HPV (papilomavírus humano), febre amarela e sarampo estão entre as prioridades da campanha” (4º parágrafo). O conectivo em destaque poderia ser substituído, sem alteração de sentido, por:

- A) a menos que
- B) conforme
- C) inclusive
- D) já que

10. “Até 1º de outubro de 2025, o Brasil **confirmou** 31 casos importados, quando a infecção ocorre fora do país” (6º parágrafo). Se a forma verbal em destaque estivesse flexionada no pretérito imperfeito do modo indicativo, teríamos:

- A) confirmaria
- B) confirmava
- C) confirmara
- D) confirmasse

11. “Até 1º de outubro de 2025, **o Brasil** confirmou 31 casos importados” (6º parágrafo). O trecho em destaque pode ser classificado sintaticamente como:









- A) sujeito
- B) aposto
- C) vocativo
- D) predicado

12. Na palavra **VACINAS**, o elemento em destaque tem a mesma função e o mesmo significado do que está indicado em:


- A) lápis
- B) vírus
- C) tropas
- D) ônibus

NOÇÕES DE INFORMÁTICA

13. No que se refere aos conceitos básicos do *Word* no pacote *MS Office* da plataforma *Microsoft 365 BR*, acessado na *web*, um funcionário que exerce as funções de técnico nível médio da Prefeitura de Marcelândia acionou dois ícones: o primeiro para alterar a cor da fonte e o segundo para aplicar um novo espaçamento entre as linhas de um parágrafo. Esses ícones foram, respectivamente:

- A)  e 
- B)  e 
- C)  e 
- D)  e 





14. A planilha da figura foi criada no *Excel* do pacote *MS Office 2013 BR*, em um microcomputador Intel, com sistema operacional *Windows 10 BR (x64)*. Nela foram inseridas as fórmulas =PROCV(A6;A4:E8;3;0) em D10 e =PROCH(B7;A4:E8;2;1) em E10.

	A	B	C	D	E
	 Prefeitura Municipal de Marcelândia				
1					
2					
3	#	DESCRIÇÃO	Qtde	Preço Unit.	Preço Total
4	1	NOTEBOOK i7	25	R\$4.500,00	R\$112.500,00
5	2	SSD 480 GB	30	R\$500,00	R\$15.000,00
6	3	PENDRIVE 16 GB	3	R\$2.400,00	R\$7.200,00
7	4	SCANNER	2	R\$2.100,00	R\$4.200,00
8	5	MULTIFUNCIONAL	7	R\$1.780,00	R\$12.460,00
9					
10	PROCV/PROCH =			?	?
11					

Nesse contexto, o número mostrado em D10 e a descrição exibida em D9 são, respectivamente:

- A) 3 e SSD 480 GB
- B) 25 e NOTEBOOK i7
- C) 7 e MULTIFUNCIONAL
- D) 30 e PENDRIVE 16 GB

15. Tanto no *Windows 10 BR* como no *Windows 11 BR*, após a utilização de um pendrive para armazenar ou mesmo consultar dados e informações, deve-se acionar um ícone que tem por significado "Remover Hardware e Ejetar Mídia com Segurança", existente em uma das Barras do sistema operacional. No que diz respeito à integridade das informações armazenadas, a realização desse procedimento é imprescindível, para evitar qualquer dano ao pendrive. O nome pelo qual é conhecida essa Barra e o ícone acionado estão indicados, respectivamente, na seguinte opção de resposta:

- A) de Notificações e 
- B) de Notificações e 
- C) de Status e 
- D) de Status e 

16. No que diz respeito às redes de computadores, os roteadores atuais empregam na conexão *wi-fi* um protocolo de configuração dinâmica de *host* em redes, diretamente associado a um servidor TCP/IP. Sem que o usuário perceba, ao se conectar em uma rede, esse serviço fornece automaticamente endereço IP, máscara de sub-rede, *gateway* padrão, endereço IP de um ou mais servidores DNS/WINS e sufixos de pesquisa do DNS, para que o dispositivo do usuário possa utilizar a rede e obter acesso aos recursos disponibilizados nela e acesso à internet, se houver. Esse serviço é conhecido pela sigla:

- A) IPCONFIG
B) TRACERT
C) SNMP
D) DHCP

17. No que se relaciona ao uso dos recursos de três dos principais browsers utilizados na navegação em sites da *internet*, como o *Google Chrome*, o *Microsoft Edge* e o *Firefox Mozilla*, em suas últimas versões, instalados e configurados em microcomputadores e *notebooks*, a execução de um atalho de teclado tem por função inserir e/ou remover a Barra de Favoritos. Esse atalho de teclado corresponde a pressionar, simultaneamente e em sequência, as teclas Ctrl, Shift e:

- A) T
B) V
C) B
D) F

18. No que tange às ferramentas *Google*, uma é uma plataforma de videoconferência que permite realizar chamadas com áudio e vídeo para várias pessoas ao mesmo tempo, possibilitando realizar reuniões, aulas e eventos online, independentemente da localização geográfica dos participantes. Entre as características desse recurso, pode-se compartilhar a tela, apresentações e documentos em tempo real, transformando-o em uma ferramenta útil para trabalhar remotamente, colaborar com colegas e realizar apresentações online. Além disso, é fácil de usar e pode ser acessada diretamente no navegador da *web*, sem a necessidade de instalar qualquer *software* adicional. Essa ferramenta é conhecida como:

- A) *Google Meet*
B) *Google Team*
C) *Google Gemini*
D) *Google Workspace*

RACIOCÍNIO LÓGICO E MATEMÁTICO

19. Um aluno obteve notas $N_1=7,0$ e $N_2=8,0$ em duas provas com pesos $P_1=2$ e $P_2=3$, respectivamente. Ele fez uma terceira avaliação com nota $N_3=9,0$ e peso P_3 . Se a Média Ponderada final foi de $8,0$, o valor de P_3 é igual a:

- A) 1
B) 1,5
C) 2
D) 2,5

20. Dados um triângulo equilátero e um hexágono regular, sabendo que ambos possuem o mesmo perímetro e que a área do hexágono regular é igual a $6 m^2$. Nessas condições, a área do triângulo equilátero é igual a:

- A) $2 m^2$
B) $3 m^2$
C) $4 m^2$
D) $6 m^2$

21. De um grupo de 10 mulheres e 8 homens, deseja-se formar uma equipe de 6 pessoas. O número de maneiras de formar a equipe, onde o número de mulheres é o dobro do número de homens é igual a:

- A) 5.880
B) 6.780
C) 7.680
D) 8.550

22. Em uma pesquisa de mercado, 1200 pessoas foram entrevistadas sobre o consumo dos produtos A, B e C. Sabe-se que 150 consomem apenas A, 200 consomem apenas B, 250 consomem apenas C. Além disso, 100 consomem A e B, 80 consomem B e C, e 70 consomem A e C. Se 30 pessoas consomem os três produtos, então o número de pessoas que consomem exatamente dois produtos é igual a:

- A) 80
B) 160
C) 220
D) 280

23. Considere dois conjuntos A e B com $|A|=15$, $|B|=20$ e $|A \cup B|=28$. Nessas condições a cardinalidade do conjunto $\mathcal{P}(A \cap B)$, ou seja, o número de subconjuntos da interseção é igual a:

- A) 7
B) 20
C) 80
D) 128

24. Um celular custa R\$ 2.500,00 e é vendido com um desconto de 20%. No momento da compra, é aplicado um imposto de 10% sobre o preço final com desconto. O preço final pago na compra foi de:

- A) R\$ 2.100,00
B) R\$ 2.200,00
C) R\$ 2.300,00
D) R\$ 2.400,00

CONHECIMENTOS ESPECÍFICOS

25. Em uma partida de basquetebol, um jogador da equipe **A** sofre falta em ato de lançamento para cesta, estando este, entre a linha central e a linha de 3 pontos na meia quadra adversária. A bola entra no cesto. Nesta situação o árbitro deverá:

- A) validar 3 pontos a equipe **A** e conceder bola ao alto na área de lance livre do adversário
- B) validar 3 pontos a equipe **A** e conceder um lance livre ao jogador que sofreu a falta
- C) conceder 3 pontos a equipe **A** e esta realizará a reposição de bola na lateral mais próxima ao local da falta
- D) desconsiderar os pontos da cesta e conceder 3 lances livres ao jogador da equipe **A**

26. Considerando o desporto voleibol, o fundamento realizado acima do bordo superior da rede, com o objetivo de interceptar o ataque adversário, na tentativa de impedir que a bola passe para a própria quadra, chama-se:

- A) ataque
- B) defesa
- C) bloqueio
- D) levantamento

27. Referente aos fundamentos básicos do desporto futebol de campo, uma das habilidades mais utilizadas e, também, a que permite ao jogador levar a bola de um ponto a outro do campo sem ser desarmado antes de efetuar um cruzamento ou outra jogada qualquer é:

- A) passe
- B) drible
- C) chute
- D) condução

28. No Atletismo de forma clássica dividimos as modalidades em provas de pista, provas de campo e provas combinadas. A alternativa que exemplifica cada uma das divisões, respectivamente, é:

- A) salto triplo, salto em distância e heptatlo
- B) arremesso de peso, decatlo e salto com vara
- C) corrida sobre barreiras, marcha atlética e heptatlo
- D) corrida com obstáculos, lançamento de dardo e decatlo

29. Na primeira fase de aprendizagem da natação deve-se:

- A) focar no enriquecimento adaptativo
- B) visar à realização da integração sensorial
- C) valorizar a segurança e a adaptação a um novo meio
- D) tornar a criança apta e independente para aprender os quatro nados da natação

30. Conforme as regras oficiais do desporto futsal, o jogo tem a duração de:

- A) dois períodos de 20 minutos
- B) dois períodos de 30 minutos
- C) quatro períodos de 12 minutos
- D) quatro períodos de 15 minutos

31. De acordo com as regras oficiais da natação, a partida das provas será na água na modalidade nado:

- A) peito
- B) costas
- C) livre
- D) borboleta

32. Conforme as regras oficiais do desporto handebol, em uma partida é permitida a seguinte ação:

- A) arrancar ou golpear a bola das mãos do adversário
- B) agarrar um adversário, seja pelo corpo ou pelo uniforme
- C) utilizar o tronco para bloquear um adversário na disputa por posição
- D) empurrar ou bloquear o adversário com os braços, mãos, pernas ou qualquer parte do corpo para deslocá-lo ou derrubá-lo

33. Na organização de uma competição com um grande número de participantes, somente as equipes vencedoras seguirão na competição, as equipes perdedoras serão eliminadas do evento. Neste contexto, o sistema de disputa utilizado será:

- A) rodízio duplo
- B) rodízio simples
- C) eliminatória simples
- D) eliminatória consolação

34. Acerca do desenvolvimento psicomotor humano, segundo Jean Piaget, o primeiro período de vida da criança vai do nascimento até aproximadamente os 2 anos de idade. A partir do surgimento da linguagem, inicia-se o período:

- A) pré-operatório
- B) sensório-motor
- C) operatório formal
- D) operatório concreto

35. Os jogos tradicionais e populares são práticas da cultura popular transmitidas ao longo de gerações. Em sua historicidade, agrega referências às raízes, costumes e simbologias de um povo. Como exemplo deste tipo de jogo, citar-se:

- A) peteca
- B) vinte e um
- C) jogo de arcade
- D) futebol de salão

36. Os jogos pré-desportivos têm o objetivo de dotar os alunos de competências para que possam executar de forma eficaz movimentos e gestos técnicos como lançar, receber, passar, chutar, conduzir, etc., que serão essenciais para o aprendizado de modalidades desportivas coletivas como o futebol, handebol, basquetebol, voleibol. Como um jogo pré-desportivo utilizado na iniciação ao handebol cita-se a:

- A) peteca
- B) queimada
- C) amarelinha
- D) dança das cadeiras

37. A educação para o lazer nas escolas têm como uma de suas possibilidades:

- A) proporcionar meios para que o uso qualitativo do tempo livre seja associado ao nível socioeconômico do indivíduo
- B) orientar a aproveitar o tempo ocioso para finalizar as tarefas do dia a dia
- C) oportunizar aos alunos que eles saibam fazer boas escolhas a respeito de seu tempo livre
- D) criar a ideia coletiva de que o ócio proporciona uma melhor performance no trabalho

38. Os princípios científicos são pré-requisitos na seleção e elaboração dos conteúdos programados na organização de um treinamento desportivo. Desta forma, praticar natação não traria benefícios significativos de performance em atletas maratonistas de rua, segundo o princípio da:

- A) adaptação
- B) especificidade
- C) sobrecarga
- D) continuidade

39. Tendo em vista o treinamento de crianças e adolescentes, o estágio de iniciação desportiva deve priorizar:

- A) exercícios de força
- B) competição e performance
- C) habilidades motoras avançadas
- D) o desenvolvimento esportivo geral

40. Um dos principais motivos para se diferenciar o treinamento de crianças e adolescentes do de adultos é dado pelo fato de que aqueles ainda se encontram na fase de crescimento, momento em que surgem inúmeras alterações e particularidades físicas, psicológicas e psicossociais. O crescimento humano se encerra:

- A) no período da puberdade
- B) nas mulheres, ao completar 21 anos
- C) com o fechamento dos discos epifisários
- D) ao surgirem as características sexuais secundárias



RA SCUNHO



Prefeitura Municipal de
Marcelândia

CONCURSO PÚBLICO
PREFEITURA DO MUNICÍPIO DE MARCELÂNDIA - MT

EDITAL N.º 01/2025

CUIDADOR DE CRIANÇAS

Duração: 4h (quatro horas)

Leia atentamente as instruções abaixo:

01 Você recebeu do fiscal o seguinte material:

a) Este caderno, com **40 (quarenta)** questões da prova objetiva, sem repetição ou falha, conforme distribuição abaixo:

CONHECIMENTOS BÁSICOS			CONHECIMENTOS ESPECÍFICOS
LÍNGUA PORTUGUESA	NOÇÕES DE INFORMÁTICA	RACIOCÍNIO LÓGICO-MATEMÁTICO	
1 a 12	13 a 18	19 a 24	25 a 40

b) Um cartão de respostas destinado à marcação da alternativa correta.

- 02** Verifique se este material está em ordem e se o seu nome, RG, cargo e número de inscrição conferem com os dados que aparecem no cartão de respostas. Caso contrário, notifique imediatamente o fiscal.
- 03** Após a conferência, o candidato deverá assinar no espaço próprio do cartão de respostas, com caneta esferográfica de tinta na cor azul ou preta.
- 04** No cartão de respostas da prova objetiva, a marcação da alternativa correta deve ser feita cobrindo a letra correspondente ao número da questão e preenchendo todo o espaço interno, com caneta esferográfica de tinta na cor azul ou preta, de forma contínua e densa.

Exemplo: A B C D

- 05** Para cada uma das questões objetivas, são apresentadas **4 (quatro) alternativas** classificadas com as letras (A, B, C e D), mas só uma responde adequadamente à questão proposta. Você só deve assinalar uma alternativa. A marcação em mais de uma alternativa anula a questão, mesmo que uma das respostas esteja correta.
- 06** O candidato poderá entregar seu cartão de respostas, seu caderno de questões e retirar-se da sala de prova somente depois de decorrida **1 (uma) hora** do início da prova. O candidato que insistir em sair da sala de prova, descumprindo o aqui disposto, deverá assinar o termo de ocorrência declarando sua desistência do certame, que será lavrado pelo coordenador do local.
- 07** Não será permitido ao candidato retirar-se do local de aplicação das provas, a qualquer tempo, portando o caderno de questões.
- 08** Será fornecida pelo INSTITUTO SELECON uma folha específica para rascunho, na qual o candidato poderá anotar manualmente as alternativas marcadas no respectivo cartão de respostas. **O candidato que se retirar da sala levando o cartão de respostas estará automaticamente eliminado do certame.**
- 09** Reserve os **30 (trinta)** minutos finais para marcar seu cartão de respostas. Os rascunhos e as marcações assinaladas no caderno de questões não serão levados em consideração.
- 10** Os **3 (três)** últimos candidatos permanecerão sentados até que todos concluíam a prova ou que termine o seu tempo de duração, devendo assinar a ata de sala e retirar-se juntos.

LÍNGUA PORTUGUESA

Leia o texto a seguir:

SES distribui 500 mil doses e incentiva campanha de multivacinação de crianças e adolescentes de até 15 anos

A Secretaria de Estado de Saúde (SES) distribuiu 500 mil doses de vacina para que os 142 municípios do Estado realizem ações da Campanha Nacional de Multivacinação, entre os dias 6 e 31 de outubro. A iniciativa do Ministério da Saúde, em parceria com Estados e prefeituras, é voltada para o público de até 15 anos de idade.

O Dia D de mobilização está marcado para 18 de outubro (sábado), quando os postos de saúde ficarão abertos em todo o país para atender a população.

"É muito importante que todos, em especial crianças e adolescentes, mantenham a caderneta atualizada. Todas as doses previstas no Calendário Nacional de Vacinação estarão à disposição da população de Mato Grosso. O Dia D, que vai ocorrer em um sábado, será mais uma oportunidade para que os pais e responsáveis possam proteger as nossas crianças", destacou o secretário de Estado de Saúde, Gilberto Figueiredo.

Segundo a superintendente de Vigilância em Saúde da SES, Alessandra Moraes, os não vacinados contra o HPV (papilomavírus humano), febre amarela e sarampo estão entre as prioridades da campanha.

"Precisamos reforçar a prevenção contra o sarampo em todo o Estado, principalmente pela proximidade com a Bolívia, onde houve um surto de casos. Por isso, essa vacina será oferecida também aos adultos até 59 anos. É muito importante que nós atinjamos alta cobertura vacinal para prevenir a reintrodução da doença no Brasil", esclareceu Alessandra.

Até 1º de outubro de 2025, o Brasil confirmou 31 casos importados, quando a infecção ocorre fora do país. Em Mato Grosso, foram registrados três casos no município de Primavera do Leste.

Durante a campanha, estarão disponíveis vacinas contra BCG, rotavírus, pneumocócica-10 valente, meningocócica C, meningocócica ACWY, pentavalente, poliomielite, febre amarela, tríplice viral, varicela, hepatite A, hepatite B, dupla adulto, HPV e dTpa.

De acordo com o coordenador estadual de Imunização, Marx Camarão, a SES tem mantido um diálogo constante com os municípios para garantir que a vacinação seja ampliada de forma eficaz durante toda a campanha.

"Trabalhamos juntos para otimizar a distribuição de doses e mobilizar as equipes de saúde, assegurando que todos os cidadãos tenham acesso a essa importante medida de proteção. O objetivo é alcançar o maior número de pessoas possível, priorizando as áreas com maior vulnerabilidade e garantindo a continuidade das ações de imunização", afirmou o coordenador.

Com cobertura vacinal de 98,9%, a dose contra BCG é a única no Estado que está acima da ideal, de 90%. As vacinas contra rotavírus e HPV têm a mesma meta, mas estão, respectivamente, com cobertura de 84,13% e de 85,54% em meninas e de 72,23% em meninos.

As outras vacinas têm cobertura ideal de 95%, mas, conforme atualização do painel nesta terça-feira (7.10), estão abaixo do desejado: pneumocócica-10: 87%; meningocócica C: 83,8%; poliomielite: 81,1%; febre amarela: 72,4%; pentavalente: 81,7%; tríplice viral: 89,9%; varicela: 67,8%; e hepatite A: 77,9%.

Fonte: <https://jornaldematogrosso.com.br/noticia/136410/ses-distribui-500-mil-doses-e-incentiva-campanha-de-multivacinacao-de-criancas-e-adolescentes-de-ate.html>. Acesso em 09/10/2025

1. O texto tem como propósito principal:

- A) relatar os casos recentes de sarampo e o surto ocorrido na Bolívia
- B) anunciar a criação de novas vacinas voltadas para o público infantojuvenil
- C) apresentar críticas à baixa cobertura vacinal no estado do Mato Grosso
- D) divulgar e incentivar a adesão à Campanha Nacional de Multivacinação

2. A justificativa dada pela superintendente de Vigilância Sanitária em Saúde da SES para reforçar a vacinação contra o sarampo está diretamente relacionada à:

- A) necessidade de incluir novas vacinas no calendário infantil
- B) alta cobertura vacinal entre adolescentes e jovens
- C) existência de um surto da doença na Bolívia
- D) interrupção das campanhas anteriores

3. O posicionamento do secretário de Estado de Saúde, no terceiro parágrafo do texto, revela que ele:

- A) considera o Dia D uma iniciativa desnecessária, mas protocolar
- B) sugere priorizar apenas as vacinas de maior risco epidemiológico
- C) enfatiza a importância de campanhas apenas para o público infantil
- D) demonstra preocupação com o engajamento das famílias na imunização

4. O sétimo parágrafo do texto lista as vacinas disponíveis durante a campanha. Essa lista tem a função de:

- A) destacar as vacinas que terão prioridade no Dia D
- B) comprovar a complexidade logística envolvida na campanha
- C) ilustrar a abrangência do atendimento oferecido à população
- D) apresentar apenas as vacinas com cobertura vacinal insuficiente

5. No trecho "Precisamos reforçar a prevenção contra o sarampo em todo o Estado, principalmente pela proximidade com a Bolívia, onde houve um surto de casos. Por isso, essa vacina será oferecida também aos adultos até 59 anos" (5º parágrafo), o termo em destaque refere-se a:

- A) HPV
- B) sarampo
- C) hepatite A
- D) febre amarela

6. “**É muito importante** que todos, em especial crianças e adolescentes, mantenham a caderneta atualizada” (3º parágrafo). A expressão em destaque cumpre a função de:

- A) atenuar a obrigação expressa pela frase
- B) expressar dúvida sobre a eficácia das vacinas
- C) apresentar um fato comprovado cientificamente
- D) introduzir uma recomendação com valor de apelo

7. “A iniciativa do Ministério da Saúde, em parceria com Estados e prefeituras, é **voltada** para o público de até 15 anos de idade” (1º parágrafo). A palavra em destaque faz referência direta ao termo:

- A) iniciativa
- B) Saúde
- C) parceria
- D) idade

8. “O Dia D, **que** vai ocorrer em um sábado, será mais uma oportunidade para que os pais e responsáveis possam proteger as nossas crianças” (3º parágrafo). Nesse trecho, a palavra em destaque é classificada como:

- A) pronome relativo
- B) conjunção integrante
- C) conjunção coordenativa
- D) conjunção subordinativa

9. “**Segundo** a superintendente de Vigilância em Saúde da SES, Alessandra Moraes, os não vacinados contra o HPV (papilomavírus humano), febre amarela e sarampo estão entre as prioridades da campanha” (4º parágrafo). O conectivo em destaque poderia ser substituído, sem alteração de sentido, por:

- A) a menos que
- B) conforme
- C) inclusive
- D) já que

10. “Até 1º de outubro de 2025, o Brasil **confirmou** 31 casos importados, quando a infecção ocorre fora do país” (6º parágrafo). Se a forma verbal em destaque estivesse flexionada no pretérito imperfeito do modo indicativo, teríamos:

- A) confirmaria
- B) confirmava
- C) confirmara
- D) confirmasse

11. “Até 1º de outubro de 2025, **o Brasil** confirmou 31 casos importados” (6º parágrafo). O trecho em destaque pode ser classificado sintaticamente como:









- A) sujeito
- B) aposto
- C) vocativo
- D) predicado

12. Na palavra **VACINAS**, o elemento em destaque tem a mesma função e o mesmo significado do que está indicado em:


- A) lápis
- B) vírus
- C) tropas
- D) ônibus

NOÇÕES DE INFORMÁTICA

13. No que se refere aos conceitos básicos do *Word* no pacote *MS Office* da plataforma *Microsoft 365 BR*, acessado na *web*, um funcionário que exerce as funções de técnico nível médio da Prefeitura de Marcelândia acionou dois ícones: o primeiro para alterar a cor da fonte e o segundo para aplicar um novo espaçamento entre as linhas de um parágrafo. Esses ícones foram, respectivamente:

- A)  e 
- B)  e 
- C)  e 
- D)  e 





14. A planilha da figura foi criada no *Excel* do pacote *MS Office 2013 BR*, em um microcomputador Intel, com sistema operacional *Windows 10 BR (x64)*. Nela foram inseridas as fórmulas =PROCV(A6;A4:E8;3;0) em D10 e =PROCH(B7;A4:E8;2;1) em E10.

	A	B	C	D	E
	 Prefeitura Municipal de Marcelândia				
1					
2					
3	#	DESCRIÇÃO	Qtde	Preço Unit.	Preço Total
4	1	NOTEBOOK i7	25	R\$4.500,00	R\$112.500,00
5	2	SSD 480 GB	30	R\$500,00	R\$15.000,00
6	3	PENDRIVE 16 GB	3	R\$2.400,00	R\$7.200,00
7	4	SCANNER	2	R\$2.100,00	R\$4.200,00
8	5	MULTIFUNCIONAL	7	R\$1.780,00	R\$12.460,00
9					
10	PROCV/PROCH =			?	?
11					

Nesse contexto, o número mostrado em D10 e a descrição exibida em D9 são, respectivamente:

- A) 3 e SSD 480 GB
- B) 25 e NOTEBOOK i7
- C) 7 e MULTIFUNCIONAL
- D) 30 e PENDRIVE 16 GB

15. Tanto no *Windows 10 BR* como no *Windows 11 BR*, após a utilização de um pendrive para armazenar ou mesmo consultar dados e informações, deve-se acionar um ícone que tem por significado "Remover Hardware e Ejetar Mídia com Segurança", existente em uma das Barras do sistema operacional. No que diz respeito à integridade das informações armazenadas, a realização desse procedimento é imprescindível, para evitar qualquer dano ao pendrive. O nome pelo qual é conhecida essa Barra e o ícone acionado estão indicados, respectivamente, na seguinte opção de resposta:

- A) de Notificações e 
- B) de Notificações e 
- C) de Status e 
- D) de Status e 

16. No que diz respeito às redes de computadores, os roteadores atuais empregam na conexão *wi-fi* um protocolo de configuração dinâmica de *host* em redes, diretamente associado a um servidor TCP/IP. Sem que o usuário perceba, ao se conectar em uma rede, esse serviço fornece automaticamente endereço IP, máscara de sub-rede, *gateway* padrão, endereço IP de um ou mais servidores DNS/WINS e sufixos de pesquisa do DNS, para que o dispositivo do usuário possa utilizar a rede e obter acesso aos recursos disponibilizados nela e acesso à internet, se houver. Esse serviço é conhecido pela sigla:

- A) IPCONFIG
B) TRACERT
C) SNMP
D) DHCP

17. No que se relaciona ao uso dos recursos de três dos principais browsers utilizados na navegação em sites da *internet*, como o *Google Chrome*, o *Microsoft Edge* e o *Firefox Mozilla*, em suas últimas versões, instalados e configurados em microcomputadores e *notebooks*, a execução de um atalho de teclado tem por função inserir e/ou remover a Barra de Favoritos. Esse atalho de teclado corresponde a pressionar, simultaneamente e em sequência, as teclas Ctrl, Shift e:

- A) T
B) V
C) B
D) F

18. No que tange às ferramentas *Google*, uma é uma plataforma de videoconferência que permite realizar chamadas com áudio e vídeo para várias pessoas ao mesmo tempo, possibilitando realizar reuniões, aulas e eventos online, independentemente da localização geográfica dos participantes. Entre as características desse recurso, pode-se compartilhar a tela, apresentações e documentos em tempo real, transformando-o em uma ferramenta útil para trabalhar remotamente, colaborar com colegas e realizar apresentações online. Além disso, é fácil de usar e pode ser acessada diretamente no navegador da *web*, sem a necessidade de instalar qualquer *software* adicional. Essa ferramenta é conhecida como:

- A) *Google Meet*
B) *Google Team*
C) *Google Gemini*
D) *Google Workspace*

RACIOCÍNIO LÓGICO E MATEMÁTICO

19. Um aluno obteve notas $N_1=7,0$ e $N_2=8,0$ em duas provas com pesos $P_1=2$ e $P_2=3$, respectivamente. Ele fez uma terceira avaliação com nota $N_3=9,0$ e peso P_3 . Se a Média Ponderada final foi de $8,0$, o valor de P_3 é igual a:

- A) 1
B) 1,5
C) 2
D) 2,5

20. Dados um triângulo equilátero e um hexágono regular, sabendo que ambos possuem o mesmo perímetro e que a área do hexágono regular é igual a $6 m^2$. Nessas condições, a área do triângulo equilátero é igual a:

- A) $2 m^2$
B) $3 m^2$
C) $4 m^2$
D) $6 m^2$

21. De um grupo de 10 mulheres e 8 homens, deseja-se formar uma equipe de 6 pessoas. O número de maneiras de formar a equipe, onde o número de mulheres é o dobro do número de homens é igual a:

- A) 5.880
B) 6.780
C) 7.680
D) 8.550

22. Em uma pesquisa de mercado, 1200 pessoas foram entrevistadas sobre o consumo dos produtos A, B e C. Sabe-se que 150 consomem apenas A, 200 consomem apenas B, 250 consomem apenas C. Além disso, 100 consomem A e B, 80 consomem B e C, e 70 consomem A e C. Se 30 pessoas consomem os três produtos, então o número de pessoas que consomem exatamente dois produtos é igual a:

- A) 80
B) 160
C) 220
D) 280

23. Considere dois conjuntos A e B com $|A|=15$, $|B|=20$ e $|A \cup B|=28$. Nessas condições a cardinalidade do conjunto $\mathcal{P}(A \cap B)$, ou seja, o número de subconjuntos da interseção é igual a:

- A) 7
B) 20
C) 80
D) 128

24. Um celular custa R\$ 2.500,00 e é vendido com um desconto de 20%. No momento da compra, é aplicado um imposto de 10% sobre o preço final com desconto. O preço final pago na compra foi de:

- A) R\$ 2.100,00
B) R\$ 2.200,00
C) R\$ 2.300,00
D) R\$ 2.400,00

CONHECIMENTOS ESPECÍFICOS

25. A Lei de Diretrizes e Bases da Educação (LDB) n.º 9.394/1996 determina que a Educação Infantil, primeira etapa da Educação Básica, tem como objetivo fomentar o desenvolvimento integral da criança de até cinco anos em suas dimensões física, psicológica, intelectual e social, complementando assim o papel da família e da comunidade. Nesse contexto, o cuidador infantil tem um papel essencial no cuidado, proteção e garantia do bem-estar das crianças. Sua função está diretamente ligada a:

- A) garantir a aprendizagem formal, responsabilizando-se pela implementação dos conteúdos educacionais
- B) auxiliar o docente apenas em funções administrativas, sem participação nas atividades de cuidado com a criança
- C) promover, junto à equipe escolar, ações de cuidado, higiene, alimentação e apoio ao desenvolvimento integral da criança, proporcionando um ambiente seguro e acolhedor
- D) assumir as funções do professor sempre que necessário, conduzindo as atividades pedagógicas de maneira independente

26. O profissional da Educação Infantil desempenha um papel fundamental no processo de ensino-aprendizagem, pois é responsável por intermediar as experiências e descobertas da criança. Sua prática deve ser direcionada para:

- A) proporcionar situações que favoreçam a autonomia, a expressão e o desenvolvimento integral da criança
- B) estabelecer uma rotina rígida, priorizando apenas o cumprimento das atividades planejadas
- C) restringir as interações entre as crianças a fim de assegurar um maior controle do comportamento em sala de aula
- D) centralizar o processo educativo em atividades repetitivas de cópia e memorização

27. A Educação Infantil deve proporcionar às crianças vivências que promovam uma aprendizagem significativa, integrando o cuidar, o educar e o brincar como práticas inseparáveis. Os conteúdos abordados nesta etapa devem:

- A) limitar-se ao desenvolvimento de habilidades de leitura, escrita e cálculo, preparando a criança para o ensino fundamental
- B) priorizar o desenvolvimento da autonomia, das expressões artísticas e corporais, da socialização e da linguagem, respeitando as características e o ritmo de cada criança
- C) concentrar-se na memorização de letras e números, visando resultados quantitativos
- D) substituir o brincar e a interação por atividades organizadas de caráter cognitivo

28. O planejamento pedagógico na Educação Infantil orienta as práticas educativas e garante a intencionalidade das ações do professor. Considerando a função do planejamento nessa etapa, seu principal objetivo é:

- A) estabelecer metas rígidas de desempenho para orientar o trabalho docente
- B) planejar atividades diárias sem levar em conta os interesses e as necessidades das crianças
- C) assegurar que as experiências oferecidas promovam o desenvolvimento integral, respeitando o ritmo e as particularidades de cada criança
- D) substituir a espontaneidade infantil por práticas estruturadas e uniformes para todo o grupo

29. O Estatuto da Criança e do Adolescente (Lei n.º 8.069/1990) estabelece que é dever da família, da comunidade, da sociedade em geral e do poder público assegurar, com absoluta prioridade, a efetivação dos direitos que garantam o pleno desenvolvimento da infância e da juventude. Esses direitos referem-se:

- A) somente à educação e à saúde, pois constituem a base para o exercício da cidadania
- B) à cultura e à recreação, garantidas conforme a disponibilidade orçamentária municipal
- C) à moradia e à segurança pública, asseguradas mediante políticas sociais gerais
- D) à vida, à saúde, à alimentação, à educação, ao esporte, ao lazer, à profissionalização, à cultura, à dignidade, ao respeito, à liberdade e à convivência familiar e comunitária

30. As práticas pedagógicas na Educação Infantil devem estar fundamentadas em metodologias que valorizem as experiências, a interação e a brincadeira, reconhecendo a criança como sujeito ativo no processo de aprendizagem. Nesse sentido, é papel do professor:

- A) direcionar rigidamente todas as atividades, assegurando que a criança reproduza o conteúdo proposto sem interferência
- B) planejar experiências que favoreçam a autonomia, a expressão e a construção do conhecimento a partir da interação com o meio e com os outros
- C) priorizar a memorização de conceitos e o uso de fichas prontas para garantir o domínio das habilidades cognitivas básicas
- D) estabelecer rotinas fixas e inflexíveis, evitando que o brincar interfira no processo de ensino formal

31. Na Educação Infantil, os conteúdos são organizados de forma integrada, tendo como eixos estruturantes a interação e a brincadeira, que possibilitam à criança desenvolver-se de maneira integral. A atividade que está em conformidade com esses eixos é:

- A) propor que envolvam apenas a repetição de letras e números para fixação de conteúdos
- B) realizar jogos e brincadeiras que estimulem a socialização, a curiosidade e a criatividade da criança
- C) focar exclusivamente em exercícios individuais para avaliar o desempenho cognitivo da criança
- D) substituir o momento do brincar por atividades escritas para garantir o cumprimento da rotina escolar

32. A literatura infantil é um instrumento pedagógico que contribui para o desenvolvimento da linguagem e da imaginação, estimulando o gosto pela leitura. Sua principal função consiste em:

- A) contribuir para o desenvolvimento emocional, cognitivo e social das crianças, além de estimular a criatividade, a capacidade de expressão, a concentração e a sensibilidade
- B) servir apenas como passatempo, sem relação com o desenvolvimento cognitivo
- C) substituir o ensino formal da leitura e da escrita por atividades recreativas
- D) garantir a memorização de textos e trechos literários, priorizando a repetição

33. O brincar é considerado um elemento fundamental na prática pedagógica da Educação Infantil. Além de ser uma atividade fundamental no processo de educação da criança, ela ajuda a desenvolver vários aspectos da aprendizagem. Compreende-se que o ato de brincar:

- A) é uma atividade espontânea que deve ocorrer apenas fora do ambiente escolar
- B) serve apenas como forma de descanso entre uma atividade pedagógica e outra
- C) deve ser substituído por atividades estruturadas, com foco na alfabetização precoce
- D) favorece o desenvolvimento cognitivo, social, afetivo e motor da criança, promovendo aprendizagens significativas

34. O período de adaptação é um momento fundamental na Educação Infantil, pois envolve o acolhimento da criança em um novo ambiente social e afetivo. Dessa forma, a conduta que deve ser adotada pelo educador consiste em:

- A) estimular a independência imediata da criança, evitando que mantenha contato com a família nos primeiros dias
- B) ignorar as reações emocionais da criança, para que se acostume mais rapidamente ao ambiente escolar
- C) organizar rotinas rígidas para que a criança compreenda que a escola é um espaço de disciplina e regras
- D) estabelecer um vínculo afetivo, respeitando o tempo de cada criança e favorecendo uma transição gradual e segura

35. A colaboração entre família e escola é fundamental para assegurar o crescimento completo da criança, particularmente na Educação Infantil. Levando em conta essa conexão, o educador da Educação Infantil deve agir de modo a:

- A) promover o diálogo constante com os responsáveis, valorizando a corresponsabilidade na formação da criança
- B) restringir o contato com os familiares, evitando interferências nas decisões pedagógicas
- C) substituir o papel da família no cuidado e na orientação moral das crianças
- D) considerar a família apenas em situações de conflito ou quando houver problemas de comportamento

36. Na Educação Infantil, a atenção à saúde, higiene e alimentação faz parte do processo de ensino-aprendizagem, uma vez que é nesse período que se constroem hábitos fundamentais e se promove o desenvolvimento integral da criança. É dever do educador:

- A) Transferir a responsabilidade pelos cuidados de higiene exclusivamente às famílias
- B) trabalhar de forma que o cuidado físico seja parte integrante do processo de ensino, entendendo que hábitos como higiene e alimentação constituem oportunidades de aprendizado
- C) considerar os momentos de cuidado como desvinculados das aprendizagens escolares
- D) priorizar as atividades pedagógicas formais, reduzindo o tempo destinado aos cuidados corporais

37. Conforme o artigo 31, inciso I, da Lei de Diretrizes e Bases da Educação (Lei n.º 9.394/1996), a avaliação na Educação Infantil deve levar em consideração as características específicas dessa fase. O processo de desenvolvimento infantil deve ocorrer:

- A) por meio de provas escritas e notas, com o objetivo de promover a criança para a etapa seguinte
- B) a partir de exames semestrais que permitam classificar as crianças conforme o desempenho
- C) mediante acompanhamento e registro do desenvolvimento das crianças, sem o objetivo de promoção
- D) por critérios quantitativos que considerem apenas o rendimento cognitivo da criança

38. A proposta pedagógica da Educação Infantil deve traduzir as concepções de criança, de ensino e de aprendizagem adotadas pela Instituição de Ensino. Sua elaboração precisa:

- A) priorizar conteúdos acadêmicos, visando à preparação antecipada para o ensino fundamental
- B) valorizar o brincar, as interações e o cuidado, assegurando o desenvolvimento integral da criança
- C) reforçar práticas avaliativas quantitativas, para mensurar o rendimento cognitivo das crianças
- D) seguir um modelo único de planejamento determinado pelo órgão gestor municipal

39. A Lei Orgânica do Município de Marcelândia-MT define, em seu art. 4º, os símbolos oficiais que expressam a identidade cultural e a história local. São reconhecidos como símbolos do município o(a):

- A) brasão, a bandeira e o hino, expressões de sua cultura e de sua história
- B) brasão, a bandeira e o hino nacional, representando sua união com o Estado
- C) bandeira, o brasão e o lema municipal, expressando o poder público local
- D) bandeira, o hino e o escudo estadual, como representação de sua soberania

40. A Lei Complementar n.º 004/2005, que dispõe sobre o Estatuto dos Servidores Públicos do Município de Marcelândia-MT. De acordo com esse documento, constitui dever do servidor público municipal:

- A) exercer suas funções de forma independente das normas legais e administrativas, priorizando a autonomia individual
- B) ausentar-se do serviço durante o expediente para tratar de interesses particulares, sem prejuízo da remuneração
- C) recusar ordens superiores, ainda que legais, sempre que julgar que contrariam seus princípios pessoais
- D) guardar sigilo sobre assuntos da repartição e tratar com urbanidade as pessoas que procuram o serviço público



RA SCUNHO



Prefeitura Municipal de
Marcelândia

CONCURSO PÚBLICO
PREFEITURA DO MUNICÍPIO DE MARCELÂNDIA - MT

EDITAL N.º 01/2025

CUIDADOR DE IDOSOS

Duração: 4h (quatro horas)

Leia atentamente as instruções abaixo:

01 Você recebeu do fiscal o seguinte material:

a) Este caderno, com **40 (quarenta)** questões da prova objetiva, sem repetição ou falha, conforme distribuição abaixo:

CONHECIMENTOS BÁSICOS			CONHECIMENTOS ESPECÍFICOS
LÍNGUA PORTUGUESA	NOÇÕES DE INFORMÁTICA	RACIOCÍNIO LÓGICO-MATEMÁTICO	
1 a 12	13 a 18	19 a 24	25 a 40

b) Um cartão de respostas destinado à marcação da alternativa correta.

- 02** Verifique se este material está em ordem e se o seu nome, RG, cargo e número de inscrição conferem com os dados que aparecem no cartão de respostas. Caso contrário, notifique imediatamente o fiscal.
- 03** Após a conferência, o candidato deverá assinar no espaço próprio do cartão de respostas, com caneta esferográfica de tinta na cor azul ou preta.
- 04** No cartão de respostas da prova objetiva, a marcação da alternativa correta deve ser feita cobrindo a letra correspondente ao número da questão e preenchendo todo o espaço interno, com caneta esferográfica de tinta na cor azul ou preta, de forma contínua e densa.

Exemplo: A B C D

- 05** Para cada uma das questões objetivas, são apresentadas **4 (quatro) alternativas** classificadas com as letras (A, B, C e D), mas só uma responde adequadamente à questão proposta. Você só deve assinalar uma alternativa. A marcação em mais de uma alternativa anula a questão, mesmo que uma das respostas esteja correta.
- 06** O candidato poderá entregar seu cartão de respostas, seu caderno de questões e retirar-se da sala de prova somente depois de decorrida **1 (uma) hora** do início da prova. O candidato que insistir em sair da sala de prova, descumprindo o aqui disposto, deverá assinar o termo de ocorrência declarando sua desistência do certame, que será lavrado pelo coordenador do local.
- 07** Não será permitido ao candidato retirar-se do local de aplicação das provas, a qualquer tempo, portando o caderno de questões.
- 08** Será fornecida pelo INSTITUTO SELECON uma folha específica para rascunho, na qual o candidato poderá anotar manualmente as alternativas marcadas no respectivo cartão de respostas. **O candidato que se retirar da sala levando o cartão de respostas estará automaticamente eliminado do certame.**
- 09** Reserve os **30 (trinta)** minutos finais para marcar seu cartão de respostas. Os rascunhos e as marcações assinaladas no caderno de questões não serão levados em consideração.
- 10** Os **3 (três)** últimos candidatos permanecerão sentados até que todos concluem a prova ou que termine o seu tempo de duração, devendo assinar a ata de sala e retirar-se juntos.

LÍNGUA PORTUGUESA

Leia o texto a seguir:

SES distribui 500 mil doses e incentiva campanha de multivacinação de crianças e adolescentes de até 15 anos

A Secretaria de Estado de Saúde (SES) distribuiu 500 mil doses de vacina para que os 142 municípios do Estado realizem ações da Campanha Nacional de Multivacinação, entre os dias 6 e 31 de outubro. A iniciativa do Ministério da Saúde, em parceria com Estados e prefeituras, é voltada para o público de até 15 anos de idade.

O Dia D de mobilização está marcado para 18 de outubro (sábado), quando os postos de saúde ficarão abertos em todo o país para atender a população.

"É muito importante que todos, em especial crianças e adolescentes, mantenham a caderneta atualizada. Todas as doses previstas no Calendário Nacional de Vacinação estarão à disposição da população de Mato Grosso. O Dia D, que vai ocorrer em um sábado, será mais uma oportunidade para que os pais e responsáveis possam proteger as nossas crianças", destacou o secretário de Estado de Saúde, Gilberto Figueiredo.

Segundo a superintendente de Vigilância em Saúde da SES, Alessandra Moraes, os não vacinados contra o HPV (papilomavírus humano), febre amarela e sarampo estão entre as prioridades da campanha.

"Precisamos reforçar a prevenção contra o sarampo em todo o Estado, principalmente pela proximidade com a Bolívia, onde houve um surto de casos. Por isso, essa vacina será oferecida também aos adultos até 59 anos. É muito importante que nós atinjamos alta cobertura vacinal para prevenir a reintrodução da doença no Brasil", esclareceu Alessandra.

Até 1º de outubro de 2025, o Brasil confirmou 31 casos importados, quando a infecção ocorre fora do país. Em Mato Grosso, foram registrados três casos no município de Primavera do Leste.

Durante a campanha, estarão disponíveis vacinas contra BCG, rotavírus, pneumocócica-10 valente, meningocócica C, meningocócica ACWY, pentavalente, poliomielite, febre amarela, tríplice viral, varicela, hepatite A, hepatite B, dupla adulto, HPV e dTpa.

De acordo com o coordenador estadual de Imunização, Marx Camarão, a SES tem mantido um diálogo constante com os municípios para garantir que a vacinação seja ampliada de forma eficaz durante toda a campanha.

"Trabalhamos juntos para otimizar a distribuição de doses e mobilizar as equipes de saúde, assegurando que todos os cidadãos tenham acesso a essa importante medida de proteção. O objetivo é alcançar o maior número de pessoas possível, priorizando as áreas com maior vulnerabilidade e garantindo a continuidade das ações de imunização", afirmou o coordenador.

Com cobertura vacinal de 98,9%, a dose contra BCG é a única no Estado que está acima da ideal, de 90%. As vacinas contra rotavírus e HPV têm a mesma meta, mas estão, respectivamente, com cobertura de 84,13% e de 85,54% em meninas e de 72,23% em meninos.

As outras vacinas têm cobertura ideal de 95%, mas, conforme atualização do painel nesta terça-feira (7.10), estão abaixo do desejado: pneumocócica-10: 87%; meningocócica C: 83,8%; poliomielite: 81,1%; febre amarela: 72,4%; pentavalente: 81,7%; tríplice viral: 89,9%; varicela: 67,8%; e hepatite A: 77,9%.

Fonte: <https://jornaldematogrosso.com.br/noticia/136410/ses-distribui-500-mil-doses-e-incentiva-campanha-de-multivacinacao-de-criancas-e-adolescentes-de-ate.html>. Acesso em 09/10/2025

1. O texto tem como propósito principal:

- A) relatar os casos recentes de sarampo e o surto ocorrido na Bolívia
- B) anunciar a criação de novas vacinas voltadas para o público infantojuvenil
- C) apresentar críticas à baixa cobertura vacinal no estado do Mato Grosso
- D) divulgar e incentivar a adesão à Campanha Nacional de Multivacinação

2. A justificativa dada pela superintendente de Vigilância Sanitária em Saúde da SES para reforçar a vacinação contra o sarampo está diretamente relacionada à:

- A) necessidade de incluir novas vacinas no calendário infantil
- B) alta cobertura vacinal entre adolescentes e jovens
- C) existência de um surto da doença na Bolívia
- D) interrupção das campanhas anteriores

3. O posicionamento do secretário de Estado de Saúde, no terceiro parágrafo do texto, revela que ele:

- A) considera o Dia D uma iniciativa desnecessária, mas protocolar
- B) sugere priorizar apenas as vacinas de maior risco epidemiológico
- C) enfatiza a importância de campanhas apenas para o público infantil
- D) demonstra preocupação com o engajamento das famílias na imunização

4. O sétimo parágrafo do texto lista as vacinas disponíveis durante a campanha. Essa lista tem a função de:

- A) destacar as vacinas que terão prioridade no Dia D
- B) comprovar a complexidade logística envolvida na campanha
- C) ilustrar a abrangência do atendimento oferecido à população
- D) apresentar apenas as vacinas com cobertura vacinal insuficiente

5. No trecho "Precisamos reforçar a prevenção contra o sarampo em todo o Estado, principalmente pela proximidade com a Bolívia, onde houve um surto de casos. Por isso, essa vacina será oferecida também aos adultos até 59 anos" (5º parágrafo), o termo em destaque refere-se a:

- A) HPV
- B) sarampo
- C) hepatite A
- D) febre amarela

6. “**É muito importante** que todos, em especial crianças e adolescentes, mantenham a caderneta atualizada” (3º parágrafo). A expressão em destaque cumpre a função de:

- A) atenuar a obrigação expressa pela frase
- B) expressar dúvida sobre a eficácia das vacinas
- C) apresentar um fato comprovado cientificamente
- D) introduzir uma recomendação com valor de apelo

7. “A iniciativa do Ministério da Saúde, em parceria com Estados e prefeituras, é **voltada** para o público de até 15 anos de idade” (1º parágrafo). A palavra em destaque faz referência direta ao termo:

- A) iniciativa
- B) Saúde
- C) parceria
- D) idade

8. “O Dia D, **que** vai ocorrer em um sábado, será mais uma oportunidade para que os pais e responsáveis possam proteger as nossas crianças” (3º parágrafo). Nesse trecho, a palavra em destaque é classificada como:

- A) pronome relativo
- B) conjunção integrante
- C) conjunção coordenativa
- D) conjunção subordinativa

9. “**Segundo** a superintendente de Vigilância em Saúde da SES, Alessandra Moraes, os não vacinados contra o HPV (papilomavírus humano), febre amarela e sarampo estão entre as prioridades da campanha” (4º parágrafo). O conectivo em destaque poderia ser substituído, sem alteração de sentido, por:

- A) a menos que
- B) conforme
- C) inclusive
- D) já que

10. “Até 1º de outubro de 2025, o Brasil **confirmou** 31 casos importados, quando a infecção ocorre fora do país” (6º parágrafo). Se a forma verbal em destaque estivesse flexionada no pretérito imperfeito do modo indicativo, teríamos:

- A) confirmaria
- B) confirmava
- C) confirmara
- D) confirmasse

11. “Até 1º de outubro de 2025, **o Brasil** confirmou 31 casos importados” (6º parágrafo). O trecho em destaque pode ser classificado sintaticamente como:









- A) sujeito
- B) aposto
- C) vocativo
- D) predicado

12. Na palavra **VACINAS**, o elemento em destaque tem a mesma função e o mesmo significado do que está indicado em:


- A) lápis
- B) vírus
- C) tropas
- D) ônibus

NOÇÕES DE INFORMÁTICA

13. No que se refere aos conceitos básicos do *Word* no pacote *MS Office* da plataforma *Microsoft 365 BR*, acessado na *web*, um funcionário que exerce as funções de técnico nível médio da Prefeitura de Marcelândia acionou dois ícones: o primeiro para alterar a cor da fonte e o segundo para aplicar um novo espaçamento entre as linhas de um parágrafo. Esses ícones foram, respectivamente:

- A)  e 
- B)  e 
- C)  e 
- D)  e 





14. A planilha da figura foi criada no *Excel* do pacote *MS Office 2013 BR*, em um microcomputador Intel, com sistema operacional *Windows 10 BR (x64)*. Nela foram inseridas as fórmulas =PROCV(A6;A4:E8;3;0) em D10 e =PROCH(B7;A4:E8;2;1) em E10.

	A	B	C	D	E
	 Prefeitura Municipal de Marcelândia				
1					
2					
3	#	DESCRIÇÃO	Qtde	Preço Unit.	Preço Total
4	1	NOTEBOOK i7	25	R\$4.500,00	R\$112.500,00
5	2	SSD 480 GB	30	R\$500,00	R\$15.000,00
6	3	PENDRIVE 16 GB	3	R\$2.400,00	R\$7.200,00
7	4	SCANNER	2	R\$2.100,00	R\$4.200,00
8	5	MULTIFUNCIONAL	7	R\$1.780,00	R\$12.460,00
9					
10	PROCV/PROCH =			?	?
11					

Nesse contexto, o número mostrado em D10 e a descrição exibida em D9 são, respectivamente:

- A) 3 e SSD 480 GB
- B) 25 e NOTEBOOK i7
- C) 7 e MULTIFUNCIONAL
- D) 30 e PENDRIVE 16 GB

15. Tanto no *Windows 10 BR* como no *Windows 11 BR*, após a utilização de um pendrive para armazenar ou mesmo consultar dados e informações, deve-se acionar um ícone que tem por significado "Remover Hardware e Ejetar Mídia com Segurança", existente em uma das Barras do sistema operacional. No que diz respeito à integridade das informações armazenadas, a realização desse procedimento é imprescindível, para evitar qualquer dano ao pendrive. O nome pelo qual é conhecida essa Barra e o ícone acionado estão indicados, respectivamente, na seguinte opção de resposta:

- A) de Notificações e 
- B) de Notificações e 
- C) de Status e 
- D) de Status e 

16. No que diz respeito às redes de computadores, os roteadores atuais empregam na conexão *wi-fi* um protocolo de configuração dinâmica de *host* em redes, diretamente associado a um servidor TCP/IP. Sem que o usuário perceba, ao se conectar em uma rede, esse serviço fornece automaticamente endereço IP, máscara de sub-rede, *gateway* padrão, endereço IP de um ou mais servidores DNS/WINS e sufixos de pesquisa do DNS, para que o dispositivo do usuário possa utilizar a rede e obter acesso aos recursos disponibilizados nela e acesso à internet, se houver. Esse serviço é conhecido pela sigla:

- A) IPCONFIG
B) TRACERT
C) SNMP
D) DHCP

17. No que se relaciona ao uso dos recursos de três dos principais browsers utilizados na navegação em sites da *internet*, como o *Google Chrome*, o *Microsoft Edge* e o *Firefox Mozilla*, em suas últimas versões, instalados e configurados em microcomputadores e *notebooks*, a execução de um atalho de teclado tem por função inserir e/ou remover a Barra de Favoritos. Esse atalho de teclado corresponde a pressionar, simultaneamente e em sequência, as teclas Ctrl, Shift e:

- A) T
B) V
C) B
D) F

18. No que tange às ferramentas *Google*, uma é uma plataforma de videoconferência que permite realizar chamadas com áudio e vídeo para várias pessoas ao mesmo tempo, possibilitando realizar reuniões, aulas e eventos online, independentemente da localização geográfica dos participantes. Entre as características desse recurso, pode-se compartilhar a tela, apresentações e documentos em tempo real, transformando-o em uma ferramenta útil para trabalhar remotamente, colaborar com colegas e realizar apresentações online. Além disso, é fácil de usar e pode ser acessada diretamente no navegador da *web*, sem a necessidade de instalar qualquer *software* adicional. Essa ferramenta é conhecida como:

- A) *Google Meet*
B) *Google Team*
C) *Google Gemini*
D) *Google Workspace*

RACIOCÍNIO LÓGICO E MATEMÁTICO

19. Um aluno obteve notas $N_1=7,0$ e $N_2=8,0$ em duas provas com pesos $P_1=2$ e $P_2=3$, respectivamente. Ele fez uma terceira avaliação com nota $N_3=9,0$ e peso P_3 . Se a Média Ponderada final foi de $8,0$, o valor de P_3 é igual a:

- A) 1
B) 1,5
C) 2
D) 2,5

20. Dados um triângulo equilátero e um hexágono regular, sabendo que ambos possuem o mesmo perímetro e que a área do hexágono regular é igual a $6 m^2$. Nessas condições, a área do triângulo equilátero é igual a:

- A) $2 m^2$
B) $3 m^2$
C) $4 m^2$
D) $6 m^2$

21. De um grupo de 10 mulheres e 8 homens, deseja-se formar uma equipe de 6 pessoas. O número de maneiras de formar a equipe, onde o número de mulheres é o dobro do número de homens é igual a:

- A) 5.880
B) 6.780
C) 7.680
D) 8.550

22. Em uma pesquisa de mercado, 1200 pessoas foram entrevistadas sobre o consumo dos produtos A, B e C. Sabe-se que 150 consomem apenas A, 200 consomem apenas B, 250 consomem apenas C. Além disso, 100 consomem A e B, 80 consomem B e C, e 70 consomem A e C. Se 30 pessoas consomem os três produtos, então o número de pessoas que consomem exatamente dois produtos é igual a:

- A) 80
B) 160
C) 220
D) 280

23. Considere dois conjuntos A e B com $|A|=15$, $|B|=20$ e $|A \cup B|=28$. Nessas condições a cardinalidade do conjunto $\mathcal{P}(A \cap B)$, ou seja, o número de subconjuntos da interseção é igual a:

- A) 7
B) 20
C) 80
D) 128

24. Um celular custa R\$ 2.500,00 e é vendido com um desconto de 20%. No momento da compra, é aplicado um imposto de 10% sobre o preço final com desconto. O preço final pago na compra foi de:

- A) R\$ 2.100,00
B) R\$ 2.200,00
C) R\$ 2.300,00
D) R\$ 2.400,00

CONHECIMENTOS ESPECÍFICOS

25. A principal função de um cuidador em enfermagem no contexto da saúde do idoso, pode ser encontrada na alternativa:

- A) realizar procedimentos médicos complexos e diagnósticos
- B) administrar medicamentos sem prescrição médica
- C) oferecer suporte nas atividades diárias, higiene e alimentação, promovendo bem-estar
- D) substituir completamente a família nas decisões sobre o tratamento

26. Um cuidador percebe que o idoso sob seus cuidados está apresentando dificuldades crescentes para se alimentar sozinho, engasgando frequentemente.

- A) adaptar a consistência dos alimentos, oferecer pequenas porções e comunicar a observação à família e à equipe de saúde
- B) forçar o idoso a comer mais rápido para evitar que a refeição esfrie
- C) oferecer alimentos líquidos exclusivamente, sem consultar a equipe de saúde
- D) ignorar a situação, pois é um processo natural do envelhecimento

27. Um cuidador de enfermagem está auxiliando um idoso com mobilidade reduzida em seu banho diário, buscando garantir não apenas a limpeza, mas também o bem-estar e a dignidade do paciente. É fundamental que o processo seja realizado de forma segura e confortável, respeitando a privacidade e as necessidades individuais do idoso. Para promover um banho seguro e confortável, qual das seguintes ações é a mais adequada a ser realizada pelo cuidador neste momento:

- A) utilizar água muito quente para garantir a desinfecção da pele
- B) deixar o idoso sozinho no banheiro para preservar sua privacidade, mesmo com risco de queda
- C) preparar o ambiente com antecedência, verificando a temperatura da água, garantindo a segurança e separando os itens de higiene
- D) realizar o banho de forma rápida e apressada, sem se preocupar com a preferência do idoso para economizar tempo

28. Para um idoso acamado ou com mobilidade muito restrita, a promoção do conforto vai além da higiene pessoal e envolve também a atenção constante à sua posição no leito e à adequação do ambiente. Evitar o surgimento de lesões por pressão (escaras), garantir um repouso tranquilo e manter a pele íntegra são prioridades para a qualidade de vida. Nesse contexto, assinale a ação mais importante que o cuidador deve realizar regularmente para promover o conforto e prevenir complicações:

- A) manter o idoso na mesma posição por longos períodos para não perturbá-lo durante o sono
- B) utilizar lençóis ásperos e com dobras para estimular a circulação sanguínea na pele
- C) deixar o quarto com pouca ventilação e janelas fechadas para evitar correntes de ar, mesmo que o ambiente fique abafado
- D) realizar mudanças de decúbito (mudança de posição) a cada duas ou três horas, verificar a pele e manter a roupa de cama limpa, seca e sem rugas

29. Para prevenir quedas em idosos, um dos maiores riscos à sua saúde e autonomia, assinale a assertiva que demonstra ser a mais eficaz e de responsabilidade do cuidador:

- A) manter o ambiente escuro para que o idoso descanse mais
- B) remover tapetes soltos, garantir boa iluminação e organizar o mobiliário para facilitar a circulação
- C) deixar objetos no chão para estimular a atenção do idoso
- D) instalar escadas em todos os cômodos para exercitar o idoso

30. Durante uma visita à casa do idoso que cuida, o cuidador ouve uma conversa telefônica particular da família, na qual são discutidos problemas financeiros e questões delicadas sobre a herança. Mais tarde, um vizinho do idoso, que é amigo da família, pergunta ao cuidador se ele sabe de algo sobre esses problemas, demonstrando curiosidade. O cuidador sabe que possui acesso a informações privilegiadas e que a privacidade do idoso e de sua família é um direito fundamental. A atitude mais ética e profissional que o cuidador deve adotar nesta situação pode ser encontrada na alternativa:

- A) informar ao vizinho que não pode discutir assuntos pessoais do idoso ou da família devido ao sigilo profissional e à ética
- B) compartilhar algumas informações superficiais com o vizinho para satisfazer sua curiosidade e manter a boa vizinhança
- C) pedir ao vizinho que converse diretamente com a família do idoso para obter as informações que deseja
- D) contar os detalhes mais importantes, pois o vizinho parece bem-intencionado e pode "ajudar" a família

31. Em uma situação em que uma pessoa inconsciente é encontrada deitada no chão após uma queda, e não apresenta sinais evidentes de trauma grave na coluna, o procedimento inicial mais adequado a ser realizado pelo socorrista antes da chegada do atendimento médico de emergência, pode ser encontrado na alternativa:

- A) iniciar imediatamente compressões torácicas sem verificar a respiração
- B) oferecer água ou líquidos para reidratar a vítima
- C) avaliar a respiração e colocar a vítima em posição lateral de segurança
- D) tentar mover a vítima para uma cadeira próxima para melhorar a circulação

32. Durante um episódio de engasgo em que a vítima não consegue falar nem tossir, e aparenta desespero ao levar as mãos ao pescoço, a conduta indicada, de acordo com os princípios básicos de primeiros socorros para obstrução grave das vias aéreas, é:

- A) aplicar imediatamente a manobra de heimlich (compressões abdominais) até que o objeto seja expelido
- B) encorajar a vítima a tossir vigorosamente e esperar que recupere a fala
- C) deitar a vítima de costas e realizar compressões torácicas como em uma reanimação
- D) oferecer água para tentar desobstruir as vias respiratórias

33. Em uma emergência doméstica em que uma pessoa sofreu queimadura de segundo grau com formação de bolhas, a ação imediata mais apropriada que o socorrista deve adotar para minimizar o agravamento da lesão:

- A) aplicar pomadas antibióticas diretamente sobre as bolhas para evitar infecções
- B) cobrir a região com algodão seco para manter a área aquecida e absorver líquidos
- C) romper as bolhas cuidadosamente para liberar o líquido e reduzir o inchaço
- D) resfriar a área queimada com água corrente fria por aproximadamente 10 a 15 minutos e evitar romper as bolhas

34. Nas síndromes demenciais, especialmente na doença de Alzheimer, o cuidador exerce papel central no suporte emocional, cognitivo e na manutenção da rotina, devendo compreender que a previsibilidade ambiental e o manejo tranquilo de comportamentos desorganizados são fundamentais para reduzir episódios de agitação e agressividade. Em um momento de confusão, quando o idoso manifesta desorientação espacial e tenta sair de casa sem propósito definido, o cuidador precisa agir com empatia, utilizando estratégias que favoreçam o senso de segurança e a redireção de atenção, evitando confrontos verbais ou físicos que possam aumentar o estado de ansiedade. Essa ação pode ser notada na alternativa:

- A) impedir fisicamente a saída do idoso, utilizando-se de força se necessário
- B) corrigir o idoso com firmeza, lembrando-o repetidamente de onde está e do perigo de sair
- C) falar com tom calmo, mudar o foco da atenção e conduzir o idoso a uma atividade familiar e segura
- D) isolar o idoso em um cômodo seguro até que o episódio de confusão passe por completo

35. No manejo de um idoso com demência avançada e múltiplas comorbidades, o cuidador deve compreender que as alterações cognitivas comprometem o julgamento, a comunicação e a adesão a tratamentos, sendo essencial integrar a observação clínica com uma escuta ativa e um ambiente de acolhimento. Diante da presença de complicações como incontinência urinária associada à limitação de mobilidade, o cuidador precisa equilibrar as demandas de higiene, conforto e dignidade, evitando práticas que gerem constrangimento ou lesões cutâneas por umidade e atrito contínuo. Nesse contexto, a conduta mais adequada é caracterizada pela ação descrita a seguir:

- A) manter o idoso por longos períodos com fralda descartável para evitar trocas frequentes
- B) incentivar a ingestão hídrica controlada e realizar trocas regulares de fralda, mantendo a pele limpa e seca
- C) reduzir drasticamente o consumo de líquidos para minimizar episódios de incontinência
- D) utilizar sabões perfumados e lenços umedecidos com álcool para eliminar completamente a umidade da pele

36. Um cuidador de enfermagem está auxiliando na transferência de um paciente idoso, com hemiparesia à esquerda e uso de sonda vesical de demora, do leito para a cadeira de rodas. Para garantir a máxima segurança, prevenir lesões tanto no paciente quanto no profissional e respeitar as limitações impostas pela condição clínica, o procedimento correto a ser executado é:

- A) posicionar a cadeira de rodas travada no lado esquerdo do paciente, o lado comprometido, para que ele possa se apoiar nela com mais facilidade ao levantar
- B) manter a bolsa coletora de urina sobre o colo do paciente durante toda a transferência para evitar tração acidental da sonda e facilitar a visualização do volume
- C) posicionar a cadeira de rodas travada a um ângulo de 45 graus em relação ao leito, do lado direito do paciente (lado forte), orientá-lo a apoiar as mãos no leito para se levantar, girar sobre o pé direito e sentar-se controladamente com o auxílio do cuidador
- D) realizar a transferência sozinho, levantando o paciente pelo tronco e axilas, mesmo que ele possua alguma capacidade de sustentação, para agilizar o processo e evitar o cansaço do assistido

37. Um paciente idoso, em recuperação de uma fratura de quadril, está liberado para deambular com o auxílio de um andador. O cuidador de enfermagem nota que, ao se aproximar de uma cadeira para sentar, o paciente se vira de frente e tenta se sentar empurrando o andador para trás. A intervenção imediata e educativa do cuidador deve ser:

- A) parar o paciente e orientá-lo verbalmente e com demonstração a se aproximar da cadeira, virar-se de costas, caminhar para trás até sentir a cadeira tocar suas pernas e só então, com as mãos apoiadas nos braços da cadeira, realizar o movimento de sentar
- B) elogiar a iniciativa do paciente em tentar sentar-se sozinho, mesmo que a técnica esteja incorreta, para não desestimular sua busca por independência
- C) permitir que o paciente complete a ação para que ele perceba o risco de queda e aprenda com o próprio erro, intervindo apenas se a queda for iminente
- D) retirar o andador assim que o paciente se aproxima da cadeira, pois o dispositivo não deve ser usado para a manobra de sentar, e deixar que ele se equilibre sozinho para alcançar o assento

38. Na dinâmica do cuidado com o idoso, a estrutura familiar muitas vezes funciona como o primeiro espaço de proteção e de sustentação afetiva, sendo essencial para prevenir o isolamento social e reduzir o risco de depressão e declínio cognitivo. A integração entre os membros da família, pautada na escuta, no respeito e na valorização das vivências do idoso, possibilita uma convivência mais significativa e o resgate do papel social desse indivíduo dentro do núcleo familiar. Assim, a atuação conjunta dos familiares no cuidado com o idoso contribui principalmente para:

- A) reforçar a dependência do idoso e limitar sua participação nas decisões familiares
- B) criar condições de exclusão social e de desvalorização das experiências do idoso
- C) reconhecer o envelhecimento como fase de fragilidade e incapacidade inevitável
- D) fortalecer laços afetivos, evitando o isolamento e estimulando a convivência saudável

39. No cuidado ao portador de Doença de Parkinson, o cuidador deve compreender que os tremores, rigidez muscular e instabilidade postural comprometem não apenas a mobilidade, mas também a capacidade de alimentação, higiene e locomoção autônoma. Uma assistência efetiva requer atenção às oscilações motoras ao longo do dia e à importância de administrar os medicamentos antiparkinsonianos em horários rigorosamente estipulados, garantindo o máximo de eficácia terapêutica e prevenindo crises de imobilidade. Assim, diante de um idoso parkinsoniano que apresenta dificuldade para engolir e risco de engasgo durante as refeições, a atitude mais segura e tecnicamente correta do cuidador é adotar a estratégia seguinte:

- A) oferecer alimentos sólidos para fortalecer os músculos da deglutição
- B) estimular o idoso a ingerir líquidos rapidamente para facilitar a passagem do alimento
- C) fornecer alimentos em consistência pastosa, em pequenas porções, mantendo postura ereta durante a alimentação
- D) administrar o medicamento antiparkinsoniano junto às refeições, sem respeitar os intervalos prescritos

40. No contexto do cuidado cotidiano de um idoso portador de diabetes mellitus tipo 2, o cuidador deve compreender que a manutenção adequada dos níveis glicêmicos não depende apenas da administração correta da medicação oral ou insulínica, mas envolve uma atenção constante a fatores nutricionais, monitoramento da pele, horários das refeições e reconhecimento precoce de complicações como hipoglicemias e neuropatias periféricas. Diante desse cenário, a conduta mais apropriada para o cuidador, ao identificar sinais como tontura, sudorese fria e tremores nas mãos, é manter uma postura de segurança e prontidão, adotando a ação imediata que favoreça a estabilização do quadro e prevenção de consequências neurológicas graves, que pode ser encontrada na alternativa:

- A) encaminhar o idoso imediatamente ao pronto-socorro sem qualquer intervenção prévia
- B) oferecer uma fonte rápida de glicose, como suco adoçado, e monitorar a melhora dos sintomas
- C) suspender imediatamente o uso das medicações antidiabéticas e comunicar o médico no dia seguinte
- D) deixar o idoso em repouso absoluto aguardando que os sintomas passem naturalmente



Prefeitura Municipal de
Marcelândia

CONCURSO PÚBLICO
PREFEITURA DO MUNICÍPIO DE MARCELÂNDIA - MT

EDITAL N.º 01/2025

ELETRICISTA DE INSTALAÇÃO GERAL

Duração: 4h (quatro horas)

Leia atentamente as instruções abaixo:

01 Você recebeu do fiscal o seguinte material:

a) Este caderno, com **40 (quarenta)** questões da prova objetiva, sem repetição ou falha, conforme distribuição abaixo:

CONHECIMENTOS BÁSICOS			CONHECIMENTOS ESPECÍFICOS
LÍNGUA PORTUGUESA	NOÇÕES DE INFORMÁTICA	RACIOCÍNIO LÓGICO-MATEMÁTICO	
1 a 12	13 a 18	19 a 24	25 a 40

b) Um cartão de respostas destinado à marcação da alternativa correta.

- 02** Verifique se este material está em ordem e se o seu nome, RG, cargo e número de inscrição conferem com os dados que aparecem no cartão de respostas. Caso contrário, notifique imediatamente o fiscal.
- 03** Após a conferência, o candidato deverá assinar no espaço próprio do cartão de respostas, com caneta esferográfica de tinta na cor azul ou preta.
- 04** No cartão de respostas da prova objetiva, a marcação da alternativa correta deve ser feita cobrindo a letra correspondente ao número da questão e preenchendo todo o espaço interno, com caneta esferográfica de tinta na cor azul ou preta, de forma contínua e densa.

Exemplo: A B C D

- 05** Para cada uma das questões objetivas, são apresentadas **4 (quatro) alternativas** classificadas com as letras (A, B, C e D), mas só uma responde adequadamente à questão proposta. Você só deve assinalar uma alternativa. A marcação em mais de uma alternativa anula a questão, mesmo que uma das respostas esteja correta.
- 06** O candidato poderá entregar seu cartão de respostas, seu caderno de questões e retirar-se da sala de prova somente depois de decorrida **1 (uma) hora** do início da prova. O candidato que insistir em sair da sala de prova, descumprindo o aqui disposto, deverá assinar o termo de ocorrência declarando sua desistência do certame, que será lavrado pelo coordenador do local.
- 07** Não será permitido ao candidato retirar-se do local de aplicação das provas, a qualquer tempo, portando o caderno de questões.
- 08** Será fornecida pelo INSTITUTO SELECON uma folha específica para rascunho, na qual o candidato poderá anotar manualmente as alternativas marcadas no respectivo cartão de respostas. **O candidato que se retirar da sala levando o cartão de respostas estará automaticamente eliminado do certame.**
- 09** Reserve os **30 (trinta)** minutos finais para marcar seu cartão de respostas. Os rascunhos e as marcações assinaladas no caderno de questões não serão levados em consideração.
- 10** Os **3 (três)** últimos candidatos permanecerão sentados até que todos concluem a prova ou que termine o seu tempo de duração, devendo assinar a ata de sala e retirar-se juntos.

LÍNGUA PORTUGUESA

Leia o texto a seguir:

SES distribui 500 mil doses e incentiva campanha de multivacinação de crianças e adolescentes de até 15 anos

A Secretaria de Estado de Saúde (SES) distribuiu 500 mil doses de vacina para que os 142 municípios do Estado realizem ações da Campanha Nacional de Multivacinação, entre os dias 6 e 31 de outubro. A iniciativa do Ministério da Saúde, em parceria com Estados e prefeituras, é voltada para o público de até 15 anos de idade.

O Dia D de mobilização está marcado para 18 de outubro (sábado), quando os postos de saúde ficarão abertos em todo o país para atender a população.

"É muito importante que todos, em especial crianças e adolescentes, mantenham a caderneta atualizada. Todas as doses previstas no Calendário Nacional de Vacinação estarão à disposição da população de Mato Grosso. O Dia D, que vai ocorrer em um sábado, será mais uma oportunidade para que os pais e responsáveis possam proteger as nossas crianças", destacou o secretário de Estado de Saúde, Gilberto Figueiredo.

Segundo a superintendente de Vigilância em Saúde da SES, Alessandra Moraes, os não vacinados contra o HPV (papilomavírus humano), febre amarela e sarampo estão entre as prioridades da campanha.

"Precisamos reforçar a prevenção contra o sarampo em todo o Estado, principalmente pela proximidade com a Bolívia, onde houve um surto de casos. Por isso, essa vacina será oferecida também aos adultos até 59 anos. É muito importante que nós atinjamos alta cobertura vacinal para prevenir a reintrodução da doença no Brasil", esclareceu Alessandra.

Até 1º de outubro de 2025, o Brasil confirmou 31 casos importados, quando a infecção ocorre fora do país. Em Mato Grosso, foram registrados três casos no município de Primavera do Leste.

Durante a campanha, estarão disponíveis vacinas contra BCG, rotavírus, pneumocócica-10 valente, meningocócica C, meningocócica ACWY, pentavalente, poliomielite, febre amarela, tríplice viral, varicela, hepatite A, hepatite B, dupla adulto, HPV e dTpa.

De acordo com o coordenador estadual de Imunização, Marx Camarão, a SES tem mantido um diálogo constante com os municípios para garantir que a vacinação seja ampliada de forma eficaz durante toda a campanha.

"Trabalhamos juntos para otimizar a distribuição de doses e mobilizar as equipes de saúde, assegurando que todos os cidadãos tenham acesso a essa importante medida de proteção. O objetivo é alcançar o maior número de pessoas possível, priorizando as áreas com maior vulnerabilidade e garantindo a continuidade das ações de imunização", afirmou o coordenador.

Com cobertura vacinal de 98,9%, a dose contra BCG é a única no Estado que está acima da ideal, de 90%. As vacinas contra rotavírus e HPV têm a mesma meta, mas estão, respectivamente, com cobertura de 84,13% e de 85,54% em meninas e de 72,23% em meninos.

As outras vacinas têm cobertura ideal de 95%, mas, conforme atualização do painel nesta terça-feira (7.10), estão abaixo do desejado: pneumocócica-10: 87%; meningocócica C: 83,8%; poliomielite: 81,1%; febre amarela: 72,4%; pentavalente: 81,7%; tríplice viral: 89,9%; varicela: 67,8%; e hepatite A: 77,9%.

Fonte: <https://jornaldematogrosso.com.br/noticia/136410/ses-distribui-500-mil-doses-e-incentiva-campanha-de-multivacinacao-de-criancas-e-adolescentes-de-ate.html>. Acesso em 09/10/2025

1. O texto tem como propósito principal:

- A) relatar os casos recentes de sarampo e o surto ocorrido na Bolívia
- B) anunciar a criação de novas vacinas voltadas para o público infantojuvenil
- C) apresentar críticas à baixa cobertura vacinal no estado do Mato Grosso
- D) divulgar e incentivar a adesão à Campanha Nacional de Multivacinação

2. A justificativa dada pela superintendente de Vigilância Sanitária em Saúde da SES para reforçar a vacinação contra o sarampo está diretamente relacionada à:

- A) necessidade de incluir novas vacinas no calendário infantil
- B) alta cobertura vacinal entre adolescentes e jovens
- C) existência de um surto da doença na Bolívia
- D) interrupção das campanhas anteriores

3. O posicionamento do secretário de Estado de Saúde, no terceiro parágrafo do texto, revela que ele:

- A) considera o Dia D uma iniciativa desnecessária, mas protocolar
- B) sugere priorizar apenas as vacinas de maior risco epidemiológico
- C) enfatiza a importância de campanhas apenas para o público infantil
- D) demonstra preocupação com o engajamento das famílias na imunização

4. O sétimo parágrafo do texto lista as vacinas disponíveis durante a campanha. Essa lista tem a função de:

- A) destacar as vacinas que terão prioridade no Dia D
- B) comprovar a complexidade logística envolvida na campanha
- C) ilustrar a abrangência do atendimento oferecido à população
- D) apresentar apenas as vacinas com cobertura vacinal insuficiente

5. No trecho "Precisamos reforçar a prevenção contra o sarampo em todo o Estado, principalmente pela proximidade com a Bolívia, onde houve um surto de casos. Por isso, essa vacina será oferecida também aos adultos até 59 anos" (5º parágrafo), o termo em destaque refere-se a:

- A) HPV
- B) sarampo
- C) hepatite A
- D) febre amarela

6. “**É muito importante** que todos, em especial crianças e adolescentes, mantenham a caderneta atualizada” (3º parágrafo). A expressão em destaque cumpre a função de:

- A) atenuar a obrigação expressa pela frase
- B) expressar dúvida sobre a eficácia das vacinas
- C) apresentar um fato comprovado cientificamente
- D) introduzir uma recomendação com valor de apelo

7. “A iniciativa do Ministério da Saúde, em parceria com Estados e prefeituras, é **voltada** para o público de até 15 anos de idade” (1º parágrafo). A palavra em destaque faz referência direta ao termo:

- A) iniciativa
- B) Saúde
- C) parceria
- D) idade

8. “O Dia D, **que** vai ocorrer em um sábado, será mais uma oportunidade para que os pais e responsáveis possam proteger as nossas crianças” (3º parágrafo). Nesse trecho, a palavra em destaque é classificada como:

- A) pronome relativo
- B) conjunção integrante
- C) conjunção coordenativa
- D) conjunção subordinativa

9. “**Segundo** a superintendente de Vigilância em Saúde da SES, Alessandra Moraes, os não vacinados contra o HPV (papilomavírus humano), febre amarela e sarampo estão entre as prioridades da campanha” (4º parágrafo). O conectivo em destaque poderia ser substituído, sem alteração de sentido, por:

- A) a menos que
- B) conforme
- C) inclusive
- D) já que

10. “Até 1º de outubro de 2025, o Brasil **confirmou** 31 casos importados, quando a infecção ocorre fora do país” (6º parágrafo). Se a forma verbal em destaque estivesse flexionada no pretérito imperfeito do modo indicativo, teríamos:

- A) confirmaria
- B) confirmava
- C) confirmara
- D) confirmasse

11. “Até 1º de outubro de 2025, **o Brasil** confirmou 31 casos importados” (6º parágrafo). O trecho em destaque pode ser classificado sintaticamente como:









- A) sujeito
- B) aposto
- C) vocativo
- D) predicado

12. Na palavra **VACINAS**, o elemento em destaque tem a mesma função e o mesmo significado do que está indicado em:


- A) lápis
- B) vírus
- C) tropas
- D) ônibus

NOÇÕES DE INFORMÁTICA

13. No que se refere aos conceitos básicos do *Word* no pacote *MS Office* da plataforma *Microsoft 365 BR*, acessado na *web*, um funcionário que exerce as funções de técnico nível médio da Prefeitura de Marcelândia acionou dois ícones: o primeiro para alterar a cor da fonte e o segundo para aplicar um novo espaçamento entre as linhas de um parágrafo. Esses ícones foram, respectivamente:

- A)  e 
- B)  e 
- C)  e 
- D)  e 





14. A planilha da figura foi criada no *Excel* do pacote *MS Office 2013 BR*, em um microcomputador Intel, com sistema operacional *Windows 10 BR (x64)*. Nela foram inseridas as fórmulas =PROCV(A6;A4:E8;3;0) em D10 e =PROCH(B7;A4:E8;2;1) em E10.

	A	B	C	D	E
	 Prefeitura Municipal de Marcelândia				
1					
2					
3	#	DESCRIÇÃO	Qtde	Preço Unit.	Preço Total
4	1	NOTEBOOK i7	25	R\$4.500,00	R\$112.500,00
5	2	SSD 480 GB	30	R\$500,00	R\$15.000,00
6	3	PENDRIVE 16 GB	3	R\$2.400,00	R\$7.200,00
7	4	SCANNER	2	R\$2.100,00	R\$4.200,00
8	5	MULTIFUNCIONAL	7	R\$1.780,00	R\$12.460,00
9					
10	PROCV/PROCH =			?	?
11					

Nesse contexto, o número mostrado em D10 e a descrição exibida em D9 são, respectivamente:

- A) 3 e SSD 480 GB
- B) 25 e NOTEBOOK i7
- C) 7 e MULTIFUNCIONAL
- D) 30 e PENDRIVE 16 GB

15. Tanto no *Windows 10 BR* como no *Windows 11 BR*, após a utilização de um pendrive para armazenar ou mesmo consultar dados e informações, deve-se acionar um ícone que tem por significado "Remover Hardware e Ejetar Mídia com Segurança", existente em uma das Barras do sistema operacional. No que diz respeito à integridade das informações armazenadas, a realização desse procedimento é imprescindível, para evitar qualquer dano ao pendrive. O nome pelo qual é conhecida essa Barra e o ícone acionado estão indicados, respectivamente, na seguinte opção de resposta:

- A) de Notificações e 
- B) de Notificações e 
- C) de Status e 
- D) de Status e 

16. No que diz respeito às redes de computadores, os roteadores atuais empregam na conexão *wi-fi* um protocolo de configuração dinâmica de *host* em redes, diretamente associado a um servidor TCP/IP. Sem que o usuário perceba, ao se conectar em uma rede, esse serviço fornece automaticamente endereço IP, máscara de sub-rede, *gateway* padrão, endereço IP de um ou mais servidores DNS/WINS e sufixos de pesquisa do DNS, para que o dispositivo do usuário possa utilizar a rede e obter acesso aos recursos disponibilizados nela e acesso à internet, se houver. Esse serviço é conhecido pela sigla:

- A) IPCONFIG
B) TRACERT
C) SNMP
D) DHCP

17. No que se relaciona ao uso dos recursos de três dos principais browsers utilizados na navegação em sites da *internet*, como o *Google Chrome*, o *Microsoft Edge* e o *Firefox Mozilla*, em suas últimas versões, instalados e configurados em microcomputadores e *notebooks*, a execução de um atalho de teclado tem por função inserir e/ou remover a Barra de Favoritos. Esse atalho de teclado corresponde a pressionar, simultaneamente e em sequência, as teclas Ctrl, Shift e:

- A) T
B) V
C) B
D) F

18. No que tange às ferramentas *Google*, uma é uma plataforma de videoconferência que permite realizar chamadas com áudio e vídeo para várias pessoas ao mesmo tempo, possibilitando realizar reuniões, aulas e eventos online, independentemente da localização geográfica dos participantes. Entre as características desse recurso, pode-se compartilhar a tela, apresentações e documentos em tempo real, transformando-o em uma ferramenta útil para trabalhar remotamente, colaborar com colegas e realizar apresentações online. Além disso, é fácil de usar e pode ser acessada diretamente no navegador da *web*, sem a necessidade de instalar qualquer *software* adicional. Essa ferramenta é conhecida como:

- A) *Google Meet*
B) *Google Team*
C) *Google Gemini*
D) *Google Workspace*

RACIOCÍNIO LÓGICO E MATEMÁTICO

19. Um aluno obteve notas $N_1=7,0$ e $N_2=8,0$ em duas provas com pesos $P_1=2$ e $P_2=3$, respectivamente. Ele fez uma terceira avaliação com nota $N_3=9,0$ e peso P_3 . Se a Média Ponderada final foi de $8,0$, o valor de P_3 é igual a:

- A) 1
B) 1,5
C) 2
D) 2,5

20. Dados um triângulo equilátero e um hexágono regular, sabendo que ambos possuem o mesmo perímetro e que a área do hexágono regular é igual a $6 m^2$. Nessas condições, a área do triângulo equilátero é igual a:

- A) $2 m^2$
B) $3 m^2$
C) $4 m^2$
D) $6 m^2$

21. De um grupo de 10 mulheres e 8 homens, deseja-se formar uma equipe de 6 pessoas. O número de maneiras de formar a equipe, onde o número de mulheres é o dobro do número de homens é igual a:

- A) 5.880
B) 6.780
C) 7.680
D) 8.550

22. Em uma pesquisa de mercado, 1200 pessoas foram entrevistadas sobre o consumo dos produtos A, B e C. Sabe-se que 150 consomem apenas A, 200 consomem apenas B, 250 consomem apenas C. Além disso, 100 consomem A e B, 80 consomem B e C, e 70 consomem A e C. Se 30 pessoas consomem os três produtos, então o número de pessoas que consomem exatamente dois produtos é igual a:

- A) 80
B) 160
C) 220
D) 280

23. Considere dois conjuntos *A* e *B* com $|A|=15$, $|B|=20$ e $|A \cup B|=28$. Nessas condições a cardinalidade do conjunto $\mathcal{P}(A \cap B)$, ou seja, o número de subconjuntos da interseção é igual a:

- A) 7
B) 20
C) 80
D) 128

24. Um celular custa R\$ 2.500,00 e é vendido com um desconto de 20%. No momento da compra, é aplicado um imposto de 10% sobre o preço final com desconto. O preço final pago na compra foi de:

- A) R\$ 2.100,00
B) R\$ 2.200,00
C) R\$ 2.300,00
D) R\$ 2.400,00

CONHECIMENTOS ESPECÍFICOS

25. Em uma instalação elétrica residencial com alimentação trifásica com as cargas exatamente equilibradas entre as fases, a corrente no neutro é:

- A) zero
- B) igual às correntes nas fases
- C) o triplo da corrente nas fases
- D) um terço da corrente nas fases

26. Durante a instalação de um novo circuito de iluminação desenergizado foi identificado que o comprimento dos fios não seria suficiente. Nessa situação o coordenador da obra optou por remover a fiação e passar outra com o comprimento correto ao invés de fazer uma emenda. Ele optou com essa solução porque:

- A) sairia mais barato, pois emendas são caras
- B) o circuito ficaria mais confiável sem a emenda
- C) o serviço seria menos arriscado para o electricista
- D) o serviço seria mais rápido, pois fazer emendas demora

27. Antes de realizar a instalação de uma nova carga em um circuito já existente o coordenador solicitou ao electricista que fizesse uma medição no quadro elétrico para saber se o disjuntor em questão suportaria a nova condição. O electricista realizou essa tarefa utilizando seu:

- A) voltímetro
- B) osciloscópio
- C) alicate amperímetro
- D) identificador de fases

28. Ao substituir um plafon LED, um electricista constatou que o plafon novo também não funcionou, apesar dos outros plafons daquele circuito estarem funcionando. Ele então concluiu que o defeito estava no:

- A) reator
- B) disjuntor
- C) compensador
- D) transformador

29. Ao verificar a tensão em uma tomada padrão ABNT, um electricista notou que sua chave de teste de fase acendia nos dois pinos, apesar do usuário relatar que a tomada funcionava normalmente. Ele então concluiu que:

- A) havia um curto na tomada
- B) havia um mau contato na tomada
- C) a carga do usuário funcionava com 220V
- D) a tomada apresentava fuga de corrente para o neutro

30. Um usuário reclamou que seu forno de microondas desligava após funcionar por alguns minutos. O electricista então concluiu que o disjuntor do circuito que alimentava o forno de microondas desligava por:

- A) sobretensão
- B) subcorrente
- C) atuação da proteção térmica
- D) atuação da proteção magnética

31. Em um projeto de arquitetura verificou-se que a iluminação principal de uma sala com duas portas de entrada deveria poder ser ligada e desligada por interruptores distintos, cada um próximo a uma das portas, que eram distantes entre si. O electricista então percebeu que iria instalar um sistema:

- A) delta
- B) triway
- C) trifásico
- D) bifásico

32. Um usuário informou que uma máquina copiadora seria transferida para outra sala no mesmo andar. Um electricista foi então verificar se o disjuntor:

- A) geral do andar suportaria a tensão
- B) geral do andar suportaria a corrente
- C) que alimenta a outra sala está aterrado
- D) que alimenta a outra sala suportaria a corrente

33. A potência consumida por uma carga ideal puramente resistiva operando em corrente contínua com 9A e 48V será menor que:

- A) 480W
- B) 480VA
- C) 430W
- D) 450VA

34. Em um esquema elétrico unifilar representando o circuito de alimentação de um edifício, duas linhas podem ser ditas perpendiculares se:

- A) forem tracejadas
- B) não se cruzarem
- C) forem da mesma cor
- D) formarem um ângulo de 90 graus entre si

35. Um circuito elétrico fechado, energizado e com dois fusíveis em série apresentará corrente circulando até que:

- A) pelo menos, um fusível queime
- B) pelo menos, um fusível entre em curto
- C) necessariamente, os dois fusíveis queimem
- D) necessariamente, os dois fusíveis entrem em curto

36. Um circuito alimentado com 48V com corrente contínua de 12A e que apresenta 4 Ohms de resistência em qualquer momento do tempo pode ser considerado:

- A) em curto
- B) em aberto
- C) sem dissipação
- D) puramente resistivo

37. O motor de uma bomba d'água monofásica com todas as bobinas em perfeito estado não iniciava seu funcionamento. O electricista verificou que o eixo girava facilmente, então concluiu que o defeito deveria estar no:

- A) rotor
- B) estator
- C) capacitor
- D) compressor



38. O teste de rotina de um gerador a diesel acusou que o equipamento não dava partida. Um técnico verificou que havia bastante combustível no tanque então concluiu que o problema estava:

- A) na bateria
- B) no catalisador
- C) no compressor
- D) nas velas da ignição

39. Um técnico foi incumbido de verificar se as instalações elétricas de um prédio estavam de acordo com os padrões brasileiros. Para se assegurar que faria a inspeção da forma mais criteriosa possível ele foi consultar a norma:

- A) DIN 46BR
- B) AWG 46BR
- C) ABNT NBR 5410
- D) ABNT NBR 14725-4

40. Um projeto de instalações elétricas determinava a instalação de duas linhas de alimentação entre o ponto A e o ponto B. Porém, por questões técnicas essas linhas tinham que ser perfeitamente paralelas, isto é, elas:

- A) só se cruzariam nos pontos A e B
- B) só se cruzariam no meio exato entre os pontos A e B
- C) fariam ângulo de 90 graus entre si no meio exato entre os pontos A e B
- D) manteriam a mesma distância entre si durante todo o percurso entre os pontos A e B

RASCUNHO



RA SCUNHO



Prefeitura Municipal de
Marcelândia

CONCURSO PÚBLICO
PREFEITURA DO MUNICÍPIO DE MARCELÂNDIA - MT

EDITAL N.º 01/2025

FISCAL SANITÁRIO

Duração: 4h (quatro horas)

Leia atentamente as instruções abaixo:

01 Você recebeu do fiscal o seguinte material:

a) Este caderno, com **40 (quarenta)** questões da prova objetiva, sem repetição ou falha, conforme distribuição abaixo:

CONHECIMENTOS BÁSICOS			CONHECIMENTOS ESPECÍFICOS
LÍNGUA PORTUGUESA	NOÇÕES DE INFORMÁTICA	RACIOCÍNIO LÓGICO-MATEMÁTICO	
1 a 12	13 a 18	19 a 24	25 a 40

b) Um cartão de respostas destinado à marcação da alternativa correta.

- 02** Verifique se este material está em ordem e se o seu nome, RG, cargo e número de inscrição conferem com os dados que aparecem no cartão de respostas. Caso contrário, notifique imediatamente o fiscal.
- 03** Após a conferência, o candidato deverá assinar no espaço próprio do cartão de respostas, com caneta esferográfica de tinta na cor azul ou preta.
- 04** No cartão de respostas da prova objetiva, a marcação da alternativa correta deve ser feita cobrindo a letra correspondente ao número da questão e preenchendo todo o espaço interno, com caneta esferográfica de tinta na cor azul ou preta, de forma contínua e densa.

Exemplo: A B C D

- 05** Para cada uma das questões objetivas, são apresentadas **4 (quatro) alternativas** classificadas com as letras (A, B, C e D), mas só uma responde adequadamente à questão proposta. Você só deve assinalar uma alternativa. A marcação em mais de uma alternativa anula a questão, mesmo que uma das respostas esteja correta.
- 06** O candidato poderá entregar seu cartão de respostas, seu caderno de questões e retirar-se da sala de prova somente depois de decorrida **1 (uma) hora** do início da prova. O candidato que insistir em sair da sala de prova, descumprindo o aqui disposto, deverá assinar o termo de ocorrência declarando sua desistência do certame, que será lavrado pelo coordenador do local.
- 07** Não será permitido ao candidato retirar-se do local de aplicação das provas, a qualquer tempo, portando o caderno de questões.
- 08** Será fornecida pelo INSTITUTO SELECON uma folha específica para rascunho, na qual o candidato poderá anotar manualmente as alternativas marcadas no respectivo cartão de respostas. **O candidato que se retirar da sala levando o cartão de respostas estará automaticamente eliminado do certame.**
- 09** Reserve os **30 (trinta)** minutos finais para marcar seu cartão de respostas. Os rascunhos e as marcações assinaladas no caderno de questões não serão levados em consideração.
- 10** Os **3 (três)** últimos candidatos permanecerão sentados até que todos concluem a prova ou que termine o seu tempo de duração, devendo assinar a ata de sala e retirar-se juntos.

LÍNGUA PORTUGUESA

Leia o texto a seguir:

SES distribui 500 mil doses e incentiva campanha de multivacinação de crianças e adolescentes de até 15 anos

A Secretaria de Estado de Saúde (SES) distribuiu 500 mil doses de vacina para que os 142 municípios do Estado realizem ações da Campanha Nacional de Multivacinação, entre os dias 6 e 31 de outubro. A iniciativa do Ministério da Saúde, em parceria com Estados e prefeituras, é voltada para o público de até 15 anos de idade.

O Dia D de mobilização está marcado para 18 de outubro (sábado), quando os postos de saúde ficarão abertos em todo o país para atender a população.

"É muito importante que todos, em especial crianças e adolescentes, mantenham a caderneta atualizada. Todas as doses previstas no Calendário Nacional de Vacinação estarão à disposição da população de Mato Grosso. O Dia D, que vai ocorrer em um sábado, será mais uma oportunidade para que os pais e responsáveis possam proteger as nossas crianças", destacou o secretário de Estado de Saúde, Gilberto Figueiredo.

Segundo a superintendente de Vigilância em Saúde da SES, Alessandra Moraes, os não vacinados contra o HPV (papilomavírus humano), febre amarela e sarampo estão entre as prioridades da campanha.

"Precisamos reforçar a prevenção contra o sarampo em todo o Estado, principalmente pela proximidade com a Bolívia, onde houve um surto de casos. Por isso, essa vacina será oferecida também aos adultos até 59 anos. É muito importante que nós atinjamos alta cobertura vacinal para prevenir a reintrodução da doença no Brasil", esclareceu Alessandra.

Até 1º de outubro de 2025, o Brasil confirmou 31 casos importados, quando a infecção ocorre fora do país. Em Mato Grosso, foram registrados três casos no município de Primavera do Leste.

Durante a campanha, estarão disponíveis vacinas contra BCG, rotavírus, pneumocócica-10 valente, meningocócica C, meningocócica ACWY, pentavalente, poliomielite, febre amarela, tríplice viral, varicela, hepatite A, hepatite B, dupla adulto, HPV e dTpa.

De acordo com o coordenador estadual de Imunização, Marx Camarão, a SES tem mantido um diálogo constante com os municípios para garantir que a vacinação seja ampliada de forma eficaz durante toda a campanha.

"Trabalhamos juntos para otimizar a distribuição de doses e mobilizar as equipes de saúde, assegurando que todos os cidadãos tenham acesso a essa importante medida de proteção. O objetivo é alcançar o maior número de pessoas possível, priorizando as áreas com maior vulnerabilidade e garantindo a continuidade das ações de imunização", afirmou o coordenador.

Com cobertura vacinal de 98,9%, a dose contra BCG é a única no Estado que está acima da ideal, de 90%. As vacinas contra rotavírus e HPV têm a mesma meta, mas estão, respectivamente, com cobertura de 84,13% e de 85,54% em meninas e de 72,23% em meninos.

As outras vacinas têm cobertura ideal de 95%, mas, conforme atualização do painel nesta terça-feira (7.10), estão abaixo do desejado: pneumocócica-10: 87%; meningocócica C: 83,8%; poliomielite: 81,1%; febre amarela: 72,4%; pentavalente: 81,7%; tríplice viral: 89,9%; varicela: 67,8%; e hepatite A: 77,9%.

Fonte: <https://jornaldematogrosso.com.br/noticia/136410/ses-distribui-500-mil-doses-e-incentiva-campanha-de-multivacinacao-de-criancas-e-adolescentes-de-ate.html>. Acesso em 09/10/2025

1. O texto tem como propósito principal:

- A) relatar os casos recentes de sarampo e o surto ocorrido na Bolívia
- B) anunciar a criação de novas vacinas voltadas para o público infantojuvenil
- C) apresentar críticas à baixa cobertura vacinal no estado do Mato Grosso
- D) divulgar e incentivar a adesão à Campanha Nacional de Multivacinação

2. A justificativa dada pela superintendente de Vigilância Sanitária em Saúde da SES para reforçar a vacinação contra o sarampo está diretamente relacionada à:

- A) necessidade de incluir novas vacinas no calendário infantil
- B) alta cobertura vacinal entre adolescentes e jovens
- C) existência de um surto da doença na Bolívia
- D) interrupção das campanhas anteriores

3. O posicionamento do secretário de Estado de Saúde, no terceiro parágrafo do texto, revela que ele:

- A) considera o Dia D uma iniciativa desnecessária, mas protocolar
- B) sugere priorizar apenas as vacinas de maior risco epidemiológico
- C) enfatiza a importância de campanhas apenas para o público infantil
- D) demonstra preocupação com o engajamento das famílias na imunização

4. O sétimo parágrafo do texto lista as vacinas disponíveis durante a campanha. Essa lista tem a função de:

- A) destacar as vacinas que terão prioridade no Dia D
- B) comprovar a complexidade logística envolvida na campanha
- C) ilustrar a abrangência do atendimento oferecido à população
- D) apresentar apenas as vacinas com cobertura vacinal insuficiente

5. No trecho "Precisamos reforçar a prevenção contra o sarampo em todo o Estado, principalmente pela proximidade com a Bolívia, onde houve um surto de casos. Por isso, essa vacina será oferecida também aos adultos até 59 anos" (5º parágrafo), o termo em destaque refere-se a:

- A) HPV
- B) sarampo
- C) hepatite A
- D) febre amarela

6. “**É muito importante** que todos, em especial crianças e adolescentes, mantenham a caderneta atualizada” (3º parágrafo). A expressão em destaque cumpre a função de:

- A) atenuar a obrigação expressa pela frase
- B) expressar dúvida sobre a eficácia das vacinas
- C) apresentar um fato comprovado cientificamente
- D) introduzir uma recomendação com valor de apelo

7. “A iniciativa do Ministério da Saúde, em parceria com Estados e prefeituras, é **voltada** para o público de até 15 anos de idade” (1º parágrafo). A palavra em destaque faz referência direta ao termo:

- A) iniciativa
- B) Saúde
- C) parceria
- D) idade

8. “O Dia D, **que** vai ocorrer em um sábado, será mais uma oportunidade para que os pais e responsáveis possam proteger as nossas crianças” (3º parágrafo). Nesse trecho, a palavra em destaque é classificada como:

- A) pronome relativo
- B) conjunção integrante
- C) conjunção coordenativa
- D) conjunção subordinativa

9. “**Segundo** a superintendente de Vigilância em Saúde da SES, Alessandra Moraes, os não vacinados contra o HPV (papilomavírus humano), febre amarela e sarampo estão entre as prioridades da campanha” (4º parágrafo). O conectivo em destaque poderia ser substituído, sem alteração de sentido, por:

- A) a menos que
- B) conforme
- C) inclusive
- D) já que

10. “Até 1º de outubro de 2025, o Brasil **confirmou** 31 casos importados, quando a infecção ocorre fora do país” (6º parágrafo). Se a forma verbal em destaque estivesse flexionada no pretérito imperfeito do modo indicativo, teríamos:

- A) confirmaria
- B) confirmava
- C) confirmara
- D) confirmasse

11. “Até 1º de outubro de 2025, **o Brasil** confirmou 31 casos importados” (6º parágrafo). O trecho em destaque pode ser classificado sintaticamente como:









- A) sujeito
- B) aposto
- C) vocativo
- D) predicado

12. Na palavra **VACINAS**, o elemento em destaque tem a mesma função e o mesmo significado do que está indicado em:


- A) lápis
- B) vírus
- C) tropas
- D) ônibus

NOÇÕES DE INFORMÁTICA

13. No que se refere aos conceitos básicos do *Word* no pacote *MS Office* da plataforma *Microsoft 365 BR*, acessado na *web*, um funcionário que exerce as funções de técnico nível médio da Prefeitura de Marcelândia acionou dois ícones: o primeiro para alterar a cor da fonte e o segundo para aplicar um novo espaçamento entre as linhas de um parágrafo. Esses ícones foram, respectivamente:

- A)  e 
- B)  e 
- C)  e 
- D)  e 





14. A planilha da figura foi criada no *Excel* do pacote *MS Office 2013 BR*, em um microcomputador Intel, com sistema operacional *Windows 10 BR (x64)*. Nela foram inseridas as fórmulas =PROCV(A6;A4:E8;3;0) em D10 e =PROCH(B7;A4:E8;2;1) em E10.

	A	B	C	D	E
	 Prefeitura Municipal de Marcelândia				
1					
2					
3	#	DESCRIÇÃO	Qtde	Preço Unit.	Preço Total
4	1	NOTEBOOK i7	25	R\$4.500,00	R\$112.500,00
5	2	SSD 480 GB	30	R\$500,00	R\$15.000,00
6	3	PENDRIVE 16 GB	3	R\$2.400,00	R\$7.200,00
7	4	SCANNER	2	R\$2.100,00	R\$4.200,00
8	5	MULTIFUNCIONAL	7	R\$1.780,00	R\$12.460,00
9					
10	PROCV/PROCH =			?	?
11					

Nesse contexto, o número mostrado em D10 e a descrição exibida em D9 são, respectivamente:

- A) 3 e SSD 480 GB
- B) 25 e NOTEBOOK i7
- C) 7 e MULTIFUNCIONAL
- D) 30 e PENDRIVE 16 GB

15. Tanto no *Windows 10 BR* como no *Windows 11 BR*, após a utilização de um pendrive para armazenar ou mesmo consultar dados e informações, deve-se acionar um ícone que tem por significado "Remover Hardware e Ejetar Mídia com Segurança", existente em uma das Barras do sistema operacional. No que diz respeito à integridade das informações armazenadas, a realização desse procedimento é imprescindível, para evitar qualquer dano ao pendrive. O nome pelo qual é conhecida essa Barra e o ícone acionado estão indicados, respectivamente, na seguinte opção de resposta:

- A) de Notificações e 
- B) de Notificações e 
- C) de Status e 
- D) de Status e 

16. No que diz respeito às redes de computadores, os roteadores atuais empregam na conexão *wi-fi* um protocolo de configuração dinâmica de *host* em redes, diretamente associado a um servidor TCP/IP. Sem que o usuário perceba, ao se conectar em uma rede, esse serviço fornece automaticamente endereço IP, máscara de sub-rede, *gateway* padrão, endereço IP de um ou mais servidores DNS/WINS e sufixos de pesquisa do DNS, para que o dispositivo do usuário possa utilizar a rede e obter acesso aos recursos disponibilizados nela e acesso à internet, se houver. Esse serviço é conhecido pela sigla:

- A) IPCONFIG
B) TRACERT
C) SNMP
D) DHCP

17. No que se relaciona ao uso dos recursos de três dos principais browsers utilizados na navegação em sites da *internet*, como o *Google Chrome*, o *Microsoft Edge* e o *Firefox Mozilla*, em suas últimas versões, instalados e configurados em microcomputadores e *notebooks*, a execução de um atalho de teclado tem por função inserir e/ou remover a Barra de Favoritos. Esse atalho de teclado corresponde a pressionar, simultaneamente e em sequência, as teclas Ctrl, Shift e:

- A) T
B) V
C) B
D) F

18. No que tange às ferramentas *Google*, uma é uma plataforma de videoconferência que permite realizar chamadas com áudio e vídeo para várias pessoas ao mesmo tempo, possibilitando realizar reuniões, aulas e eventos online, independentemente da localização geográfica dos participantes. Entre as características desse recurso, pode-se compartilhar a tela, apresentações e documentos em tempo real, transformando-o em uma ferramenta útil para trabalhar remotamente, colaborar com colegas e realizar apresentações online. Além disso, é fácil de usar e pode ser acessada diretamente no navegador da *web*, sem a necessidade de instalar qualquer *software* adicional. Essa ferramenta é conhecida como:

- A) *Google Meet*
B) *Google Team*
C) *Google Gemini*
D) *Google Workspace*

RACIOCÍNIO LÓGICO E MATEMÁTICO

19. Um aluno obteve notas $N_1=7,0$ e $N_2=8,0$ em duas provas com pesos $P_1=2$ e $P_2=3$, respectivamente. Ele fez uma terceira avaliação com nota $N_3=9,0$ e peso P_3 . Se a Média Ponderada final foi de $8,0$, o valor de P_3 é igual a:

- A) 1
B) 1,5
C) 2
D) 2,5

20. Dados um triângulo equilátero e um hexágono regular, sabendo que ambos possuem o mesmo perímetro e que a área do hexágono regular é igual a $6 m^2$. Nessas condições, a área do triângulo equilátero é igual a:

- A) $2 m^2$
B) $3 m^2$
C) $4 m^2$
D) $6 m^2$

21. De um grupo de 10 mulheres e 8 homens, deseja-se formar uma equipe de 6 pessoas. O número de maneiras de formar a equipe, onde o número de mulheres é o dobro do número de homens é igual a:

- A) 5.880
B) 6.780
C) 7.680
D) 8.550

22. Em uma pesquisa de mercado, 1200 pessoas foram entrevistadas sobre o consumo dos produtos A, B e C. Sabe-se que 150 consomem apenas A, 200 consomem apenas B, 250 consomem apenas C. Além disso, 100 consomem A e B, 80 consomem B e C, e 70 consomem A e C. Se 30 pessoas consomem os três produtos, então o número de pessoas que consomem exatamente dois produtos é igual a:

- A) 80
B) 160
C) 220
D) 280

23. Considere dois conjuntos A e B com $|A|=15$, $|B|=20$ e $|A \cup B|=28$. Nessas condições a cardinalidade do conjunto $\mathcal{P}(A \cap B)$, ou seja, o número de subconjuntos da interseção é igual a:

- A) 7
B) 20
C) 80
D) 128

24. Um celular custa R\$ 2.500,00 e é vendido com um desconto de 20%. No momento da compra, é aplicado um imposto de 10% sobre o preço final com desconto. O preço final pago na compra foi de:

- A) R\$ 2.100,00
B) R\$ 2.200,00
C) R\$ 2.300,00
D) R\$ 2.400,00

CONHECIMENTOS ESPECÍFICOS

25. No desempenho das funções de um fiscal sanitário em um município é importante se conhecer as áreas de atuação da vigilância sanitária, destacando-se, entre outras:

- A) o controle de combustíveis em postos de abastecimento
- B) a fiscalização de alimentos e bebidas no comércio local
- C) o controle da mobilidade urbana em ruas e vias municipais
- D) o planejamento das atividades docentes na rede pública municipal de educação

26. Entende-se como Vigilância Sanitária um conjunto de ações que têm por objetivo:

- A) eliminar ou prevenir riscos à saúde relacionados a problemas sanitários em um ambiente, tanto para locais de circulação das pessoas quanto para locais de produção de bens e de serviços
- B) estabelecer rotinas de higiene familiar nos espaços privados no interior dos domicílios, incluindo métodos para asseio pessoal e manuseio doméstico de cosméticos.
- C) implementar sistemas de odorização urbana, visando propiciar maior conforto e satisfação da população de uma cidade no que se refere ao bem estar ao ar livre.
- D) garantir à população de uma cidade ou região acesso gratuito a serviços públicos de saúde

27. Uma doença provocada pela ingestão de carne de porco ou de animais de caça, como javalis, crua ou mal cozida, causada pelo parasita *Trichinella spiralis*, cujos sintomas podem ser náuseas, vômitos, dores abdominais, diarreia, febre e erupção cutânea, é conhecida como:

- A) artrose
- B) rubéola
- C) osteoporose
- D) triquinelose

28. Uma zoonose é uma doença transmitida de um animal para o ser humano, podendo ocorrer em suínos, bovinos, caprinos, aves, entre outros. Sua transmissão pode se dar pela ingestão de carne crua ou mal passada e também pelo consumo de água, frutas, verduras. Aquela causada pelo protozoário *Toxoplasma gondii*, é conhecida como:

- A) psoríase
- B) lupus
- C) toxoplasmose
- D) anemia

29. Uma doença, também conhecida como equinococose, causada por um parasito de cães chamado *Echinococcus granulosus*, cuja transmissão para seres humanos ocorre através da ingestão acidental de água e alimentos contaminados com fezes de cães ou através de contato íntimo com estes animais, é denominada:

- A) hidatidose
- B) herpes
- C) caxumba
- D) poliomielite

30. Uma doença causada pela bactéria *Salmonella spp*, presente em ovos e frangos crus, carne, leite e produtos lácteos, pescados, e água contaminados com fezes de animais portadores, cujos sintomas podem incluir diarreia, vômito, febre, dor abdominal, náusea, desidratação, começando a se manifestar entre 6 e 72 horas após a ingestão do alimento contaminado, com duração entre 2 e 7 dias, é conhecida como:

- A) varíola
- B) dengue
- C) salmonelose
- D) mononucleose

31. Uma doença causada pela toxina produzida pela bactéria *clostridium botulinum*, encontrada em alimentos em conservas, cuja transmissão pode se dar pela ingestão de alimentos contaminados, sendo as fontes comuns deste tipo de doença alimentos que foram enlatados, preservados ou fermentados de maneira inadequada, é conhecida como:

- A) cólera
- B) botulismo
- C) leptospirose
- D) hanseníase

32. No exercício das funções de um fiscal sanitário, em muitas situações se faz necessário avaliar rapidamente, e preliminarmente, as características de um produto alimentício a partir da percepção pelos sentidos humanos, como cor, odor, sabor, textura e brilho. Essas propriedades são denominadas:

- A) econômicas
- B) estruturais
- C) superficiais
- D) organolépticas

33. A água pode ser responsável por transmitir um elevado número de enfermidades, podendo se dar por diferentes mecanismos, sendo o mais comum:

- A) o banho
- B) a chuva
- C) a ingestão
- D) a lavagem de pisos

34. Os resíduos sólidos urbanos quando não são destinados adequadamente podem causar diversas doenças, razão pela qual deve haver fiscalização quanto ao seu correto acondicionamento pela população. Essas doenças são causadas por diferentes micro-organismos patogênicos que podem permanecer vivos na massa de resíduos. O tempo de sobrevivência desses organismos pode ser considerado um fator muito importante na transmissão, podendo atingir muitos dias. A doença cujo micro-organismo patogênico presente pode atingir acima de 2000 dias é:

- A) cólera
- B) leptospirose
- C) disenteria
- D) ascaridíase

35. A precariedade dos sistemas de esgotamento sanitário, especialmente em relação ao destino inadequado dos dejetos humanos, pode estar relacionada diretamente à transmissão de diversas doenças, entre as quais:

- A) diarreia
- B) demência
- C) glaucoma
- D) gripe

36. O Código Sanitário do Estado do Mato Grosso, instituído pela Lei n.º 7.110/1999, dispõe sobre a promoção, proteção e preservação da saúde individual e coletiva e tem como um dos objetivos:

- A) garantir renda mínima a todos os habitantes dentro dos limites do Estado
- B) promover ações visando ao controle de doenças, agravos ou fatores de riscos à saúde
- C) viabilizar a participação de jovens e adultos em competições esportivas em todos os municípios
- D) penalizar municípios que demonstrem incapacidade para gerir a política municipal de saúde

37. Também segundo o Código Sanitário do Estado do Mato Grosso, instituído pela Lei n.º 7.110/1999, os Municípios que não possuírem condições de executar plenamente os serviços de vigilância sanitária:

- A) poderão se eximir de atuar nesse campo das políticas públicas de saúde, delegando à população o auto controle sanitário no município
- B) deverão contratar empresas privadas da área de segurança patrimonial, no sentido de garantir e prevenir abusos por parte da rede de comércio local
- C) estarão impedidos de solicitarem recursos financeiros ao Governo Federal, não apenas para a área de saúde, assim como para qualquer outra política pública
- D) deverão comunicar ao Estado sobre a situação, para que este promova a atuação complementar por meio da prestação de apoio técnico e financeiro e/ou a execução dos serviços de vigilância sanitária.

38. Quanto às informações e dados de interesse da vigilância sanitária, o Código Sanitário do Estado do Mato Grosso – MT, Lei n.º 7.110/1999, estabelece que os municípios mato-grossenses:

- A) ficam obrigados a fornecer no sistema oficial do Estado, sendo facultativa a adesão integral de utilização do sistema.
- B) ficam obrigados a aderirem exclusivamente às plataformas dos sistemas federais
- C) devem decidir pela delegação dessa demanda ao Poder Legislativo Municipal
- D) devem alimentar e utilizar exclusivamente o sistema municipal de informações

39. Considerando o Código Sanitário do Estado do Mato Grosso, Lei n.º 7.110/1999, os estabelecimentos sujeitos à ação fiscalizadora dos serviços de Vigilância Sanitária:

- A) deverão estar sempre disponíveis e abertos durante vinte e quatro horas por dia, a fim de permitir qualquer inspeção.
- B) apenas poderão comercializar carnes de animais considerados de pequeno porte quando da existência de exemplares vivos, para verificação pelos consumidores.
- C) deverão manter serviço de atendimento à população para recebimento de reclamações, denúncias, informações e sugestões no próprio local.
- D) não poderão utilizar refrigeradores alimentados por energia gerada por gás, devendo estar ligados ao sistema de energia elétrica da concessionária pública

40. Para um município melhor gerir as ações de saúde em seu território é aconselhável que sejam implementados instrumentos de planejamento. Nesse sentido, o Município de Marcelândia conta com o atual Plano Municipal de Saúde, com vigência para o período de 2022 a 2025. Esse documento prevê, para a atuação da fiscalização sanitária, a utilização de instrumentos legais, entre outros, tais como:

- A) certidão
- B) notificação
- C) alerta sonoro
- D) alerta luminoso



RA SCUNHO



Prefeitura Municipal de
Marcelândia

CONCURSO PÚBLICO
PREFEITURA DO MUNICÍPIO DE MARCELÂNDIA - MT

EDITAL N.º 01/2025

MECÂNICO DE MÁQUINAS PESADA

Duração: 4h (quatro horas)

Leia atentamente as instruções abaixo:

01 Você recebeu do fiscal o seguinte material:

a) Este caderno, com **40 (quarenta)** questões da prova objetiva, sem repetição ou falha, conforme distribuição abaixo:

CONHECIMENTOS BÁSICOS			CONHECIMENTOS ESPECÍFICOS
LÍNGUA PORTUGUESA	NOÇÕES DE INFORMÁTICA	RACIOCÍNIO LÓGICO-MATEMÁTICO	
1 a 12	13 a 18	19 a 24	25 a 40

b) Um cartão de respostas destinado à marcação da alternativa correta.

- 02** Verifique se este material está em ordem e se o seu nome, RG, cargo e número de inscrição conferem com os dados que aparecem no cartão de respostas. Caso contrário, notifique imediatamente o fiscal.
- 03** Após a conferência, o candidato deverá assinar no espaço próprio do cartão de respostas, com caneta esferográfica de tinta na cor azul ou preta.
- 04** No cartão de respostas da prova objetiva, a marcação da alternativa correta deve ser feita cobrindo a letra correspondente ao número da questão e preenchendo todo o espaço interno, com caneta esferográfica de tinta na cor azul ou preta, de forma contínua e densa.

Exemplo: A B C D

- 05** Para cada uma das questões objetivas, são apresentadas **4 (quatro) alternativas** classificadas com as letras (A, B, C e D), mas só uma responde adequadamente à questão proposta. Você só deve assinalar uma alternativa. A marcação em mais de uma alternativa anula a questão, mesmo que uma das respostas esteja correta.
- 06** O candidato poderá entregar seu cartão de respostas, seu caderno de questões e retirar-se da sala de prova somente depois de decorrida **1 (uma) hora** do início da prova. O candidato que insistir em sair da sala de prova, descumprindo o aqui disposto, deverá assinar o termo de ocorrência declarando sua desistência do certame, que será lavrado pelo coordenador do local.
- 07** Não será permitido ao candidato retirar-se do local de aplicação das provas, a qualquer tempo, portando o caderno de questões.
- 08** Será fornecida pelo INSTITUTO SELECON uma folha específica para rascunho, na qual o candidato poderá anotar manualmente as alternativas marcadas no respectivo cartão de respostas. **O candidato que se retirar da sala levando o cartão de respostas estará automaticamente eliminado do certame.**
- 09** Reserve os **30 (trinta)** minutos finais para marcar seu cartão de respostas. Os rascunhos e as marcações assinaladas no caderno de questões não serão levados em consideração.
- 10** Os **3 (três)** últimos candidatos permanecerão sentados até que todos concluem a prova ou que termine o seu tempo de duração, devendo assinar a ata de sala e retirar-se juntos.

LÍNGUA PORTUGUESA

Leia o texto a seguir:

SES distribui 500 mil doses e incentiva campanha de multivacinação de crianças e adolescentes de até 15 anos

A Secretaria de Estado de Saúde (SES) distribuiu 500 mil doses de vacina para que os 142 municípios do Estado realizem ações da Campanha Nacional de Multivacinação, entre os dias 6 e 31 de outubro. A iniciativa do Ministério da Saúde, em parceria com Estados e prefeituras, é voltada para o público de até 15 anos de idade.

O Dia D de mobilização está marcado para 18 de outubro (sábado), quando os postos de saúde ficarão abertos em todo o país para atender a população.

"É muito importante que todos, em especial crianças e adolescentes, mantenham a caderneta atualizada. Todas as doses previstas no Calendário Nacional de Vacinação estarão à disposição da população de Mato Grosso. O Dia D, que vai ocorrer em um sábado, será mais uma oportunidade para que os pais e responsáveis possam proteger as nossas crianças", destacou o secretário de Estado de Saúde, Gilberto Figueiredo.

Segundo a superintendente de Vigilância em Saúde da SES, Alessandra Moraes, os não vacinados contra o HPV (papilomavírus humano), febre amarela e sarampo estão entre as prioridades da campanha.

"Precisamos reforçar a prevenção contra o sarampo em todo o Estado, principalmente pela proximidade com a Bolívia, onde houve um surto de casos. Por isso, essa vacina será oferecida também aos adultos até 59 anos. É muito importante que nós atinjamos alta cobertura vacinal para prevenir a reintrodução da doença no Brasil", esclareceu Alessandra.

Até 1º de outubro de 2025, o Brasil confirmou 31 casos importados, quando a infecção ocorre fora do país. Em Mato Grosso, foram registrados três casos no município de Primavera do Leste.

Durante a campanha, estarão disponíveis vacinas contra BCG, rotavírus, pneumocócica-10 valente, meningocócica C, meningocócica ACWY, pentavalente, poliomielite, febre amarela, tríplice viral, varicela, hepatite A, hepatite B, dupla adulto, HPV e dTpa.

De acordo com o coordenador estadual de Imunização, Marx Camarão, a SES tem mantido um diálogo constante com os municípios para garantir que a vacinação seja ampliada de forma eficaz durante toda a campanha.

"Trabalhamos juntos para otimizar a distribuição de doses e mobilizar as equipes de saúde, assegurando que todos os cidadãos tenham acesso a essa importante medida de proteção. O objetivo é alcançar o maior número de pessoas possível, priorizando as áreas com maior vulnerabilidade e garantindo a continuidade das ações de imunização", afirmou o coordenador.

Com cobertura vacinal de 98,9%, a dose contra BCG é a única no Estado que está acima da ideal, de 90%. As vacinas contra rotavírus e HPV têm a mesma meta, mas estão, respectivamente, com cobertura de 84,13% e de 85,54% em meninas e de 72,23% em meninos.

As outras vacinas têm cobertura ideal de 95%, mas, conforme atualização do painel nesta terça-feira (7.10), estão abaixo do desejado: pneumocócica-10: 87%; meningocócica C: 83,8%; poliomielite: 81,1%; febre amarela: 72,4%; pentavalente: 81,7%; tríplice viral: 89,9%; varicela: 67,8%; e hepatite A: 77,9%.

Fonte: <https://jornaldematogrosso.com.br/noticia/136410/ses-distribui-500-mil-doses-e-incentiva-campanha-de-multivacinacao-de-criancas-e-adolescentes-de-ate.html>. Acesso em 09/10/2025

1. O texto tem como propósito principal:

- A) relatar os casos recentes de sarampo e o surto ocorrido na Bolívia
- B) anunciar a criação de novas vacinas voltadas para o público infantojuvenil
- C) apresentar críticas à baixa cobertura vacinal no estado do Mato Grosso
- D) divulgar e incentivar a adesão à Campanha Nacional de Multivacinação

2. A justificativa dada pela superintendente de Vigilância Sanitária em Saúde da SES para reforçar a vacinação contra o sarampo está diretamente relacionada à:

- A) necessidade de incluir novas vacinas no calendário infantil
- B) alta cobertura vacinal entre adolescentes e jovens
- C) existência de um surto da doença na Bolívia
- D) interrupção das campanhas anteriores

3. O posicionamento do secretário de Estado de Saúde, no terceiro parágrafo do texto, revela que ele:

- A) considera o Dia D uma iniciativa desnecessária, mas protocolar
- B) sugere priorizar apenas as vacinas de maior risco epidemiológico
- C) enfatiza a importância de campanhas apenas para o público infantil
- D) demonstra preocupação com o engajamento das famílias na imunização

4. O sétimo parágrafo do texto lista as vacinas disponíveis durante a campanha. Essa lista tem a função de:

- A) destacar as vacinas que terão prioridade no Dia D
- B) comprovar a complexidade logística envolvida na campanha
- C) ilustrar a abrangência do atendimento oferecido à população
- D) apresentar apenas as vacinas com cobertura vacinal insuficiente

5. No trecho "Precisamos reforçar a prevenção contra o sarampo em todo o Estado, principalmente pela proximidade com a Bolívia, onde houve um surto de casos. Por isso, essa vacina será oferecida também aos adultos até 59 anos" (5º parágrafo), o termo em destaque refere-se a:

- A) HPV
- B) sarampo
- C) hepatite A
- D) febre amarela

6. “**É muito importante** que todos, em especial crianças e adolescentes, mantenham a caderneta atualizada” (3º parágrafo). A expressão em destaque cumpre a função de:

- A) atenuar a obrigação expressa pela frase
- B) expressar dúvida sobre a eficácia das vacinas
- C) apresentar um fato comprovado cientificamente
- D) introduzir uma recomendação com valor de apelo

7. “A iniciativa do Ministério da Saúde, em parceria com Estados e prefeituras, é **voltada** para o público de até 15 anos de idade” (1º parágrafo). A palavra em destaque faz referência direta ao termo:

- A) iniciativa
- B) Saúde
- C) parceria
- D) idade

8. “O Dia D, **que** vai ocorrer em um sábado, será mais uma oportunidade para que os pais e responsáveis possam proteger as nossas crianças” (3º parágrafo). Nesse trecho, a palavra em destaque é classificada como:

- A) pronome relativo
- B) conjunção integrante
- C) conjunção coordenativa
- D) conjunção subordinativa

9. “**Segundo** a superintendente de Vigilância em Saúde da SES, Alessandra Moraes, os não vacinados contra o HPV (papilomavírus humano), febre amarela e sarampo estão entre as prioridades da campanha” (4º parágrafo). O conectivo em destaque poderia ser substituído, sem alteração de sentido, por:

- A) a menos que
- B) conforme
- C) inclusive
- D) já que

10. “Até 1º de outubro de 2025, o Brasil **confirmou** 31 casos importados, quando a infecção ocorre fora do país” (6º parágrafo). Se a forma verbal em destaque estivesse flexionada no pretérito imperfeito do modo indicativo, teríamos:

- A) confirmaria
- B) confirmava
- C) confirmara
- D) confirmasse

11. “Até 1º de outubro de 2025, **o Brasil** confirmou 31 casos importados” (6º parágrafo). O trecho em destaque pode ser classificado sintaticamente como:









- A) sujeito
- B) aposto
- C) vocativo
- D) predicado

12. Na palavra **VACINAS**, o elemento em destaque tem a mesma função e o mesmo significado do que está indicado em:


- A) lápis
- B) vírus
- C) tropas
- D) ônibus

NOÇÕES DE INFORMÁTICA

13. No que se refere aos conceitos básicos do *Word* no pacote *MS Office* da plataforma *Microsoft 365 BR*, acessado na *web*, um funcionário que exerce as funções de técnico nível médio da Prefeitura de Marcelândia acionou dois ícones: o primeiro para alterar a cor da fonte e o segundo para aplicar um novo espaçamento entre as linhas de um parágrafo. Esses ícones foram, respectivamente:

- A)  e 
- B)  e 
- C)  e 
- D)  e 





14. A planilha da figura foi criada no *Excel* do pacote *MS Office 2013 BR*, em um microcomputador Intel, com sistema operacional *Windows 10 BR (x64)*. Nela foram inseridas as fórmulas =PROCV(A6;A4:E8;3;0) em D10 e =PROCH(B7;A4:E8;2;1) em E10.

	A	B	C	D	E
	 Prefeitura Municipal de Marcelândia				
1					
2					
3	#	DESCRIÇÃO	Qtde	Preço Unit.	Preço Total
4	1	NOTEBOOK i7	25	R\$4.500,00	R\$112.500,00
5	2	SSD 480 GB	30	R\$500,00	R\$15.000,00
6	3	PENDRIVE 16 GB	3	R\$2.400,00	R\$7.200,00
7	4	SCANNER	2	R\$2.100,00	R\$4.200,00
8	5	MULTIFUNCIONAL	7	R\$1.780,00	R\$12.460,00
9					
10	PROCV/PROCH =			?	?
11					

Nesse contexto, o número mostrado em D10 e a descrição exibida em D9 são, respectivamente:

- A) 3 e SSD 480 GB
- B) 25 e NOTEBOOK i7
- C) 7 e MULTIFUNCIONAL
- D) 30 e PENDRIVE 16 GB

15. Tanto no *Windows 10 BR* como no *Windows 11 BR*, após a utilização de um pendrive para armazenar ou mesmo consultar dados e informações, deve-se acionar um ícone que tem por significado "Remover Hardware e Ejetar Mídia com Segurança", existente em uma das Barras do sistema operacional. No que diz respeito à integridade das informações armazenadas, a realização desse procedimento é imprescindível, para evitar qualquer dano ao pendrive. O nome pelo qual é conhecida essa Barra e o ícone acionado estão indicados, respectivamente, na seguinte opção de resposta:

- A) de Notificações e 
- B) de Notificações e 
- C) de Status e 
- D) de Status e 

16. No que diz respeito às redes de computadores, os roteadores atuais empregam na conexão *wi-fi* um protocolo de configuração dinâmica de *host* em redes, diretamente associado a um servidor TCP/IP. Sem que o usuário perceba, ao se conectar em uma rede, esse serviço fornece automaticamente endereço IP, máscara de sub-rede, *gateway* padrão, endereço IP de um ou mais servidores DNS/WINS e sufixos de pesquisa do DNS, para que o dispositivo do usuário possa utilizar a rede e obter acesso aos recursos disponibilizados nela e acesso à internet, se houver. Esse serviço é conhecido pela sigla:

- A) IPCONFIG
B) TRACERT
C) SNMP
D) DHCP

17. No que se relaciona ao uso dos recursos de três dos principais browsers utilizados na navegação em sites da *internet*, como o *Google Chrome*, o *Microsoft Edge* e o *Firefox Mozilla*, em suas últimas versões, instalados e configurados em microcomputadores e *notebooks*, a execução de um atalho de teclado tem por função inserir e/ou remover a Barra de Favoritos. Esse atalho de teclado corresponde a pressionar, simultaneamente e em sequência, as teclas Ctrl, Shift e:

- A) T
B) V
C) B
D) F

18. No que tange às ferramentas *Google*, uma é uma plataforma de videoconferência que permite realizar chamadas com áudio e vídeo para várias pessoas ao mesmo tempo, possibilitando realizar reuniões, aulas e eventos online, independentemente da localização geográfica dos participantes. Entre as características desse recurso, pode-se compartilhar a tela, apresentações e documentos em tempo real, transformando-o em uma ferramenta útil para trabalhar remotamente, colaborar com colegas e realizar apresentações online. Além disso, é fácil de usar e pode ser acessada diretamente no navegador da *web*, sem a necessidade de instalar qualquer *software* adicional. Essa ferramenta é conhecida como:

- A) *Google Meet*
B) *Google Team*
C) *Google Gemini*
D) *Google Workspace*

RACIOCÍNIO LÓGICO E MATEMÁTICO

19. Um aluno obteve notas $N_1=7,0$ e $N_2=8,0$ em duas provas com pesos $P_1=2$ e $P_2=3$, respectivamente. Ele fez uma terceira avaliação com nota $N_3=9,0$ e peso P_3 . Se a Média Ponderada final foi de $8,0$, o valor de P_3 é igual a:

- A) 1
B) 1,5
C) 2
D) 2,5

20. Dados um triângulo equilátero e um hexágono regular, sabendo que ambos possuem o mesmo perímetro e que a área do hexágono regular é igual a $6 m^2$. Nessas condições, a área do triângulo equilátero é igual a:

- A) $2 m^2$
B) $3 m^2$
C) $4 m^2$
D) $6 m^2$

21. De um grupo de 10 mulheres e 8 homens, deseja-se formar uma equipe de 6 pessoas. O número de maneiras de formar a equipe, onde o número de mulheres é o dobro do número de homens é igual a:

- A) 5.880
B) 6.780
C) 7.680
D) 8.550

22. Em uma pesquisa de mercado, 1200 pessoas foram entrevistadas sobre o consumo dos produtos A, B e C. Sabe-se que 150 consomem apenas A, 200 consomem apenas B, 250 consomem apenas C. Além disso, 100 consomem A e B, 80 consomem B e C, e 70 consomem A e C. Se 30 pessoas consomem os três produtos, então o número de pessoas que consomem exatamente dois produtos é igual a:

- A) 80
B) 160
C) 220
D) 280

23. Considere dois conjuntos A e B com $|A|=15$, $|B|=20$ e $|A \cup B|=28$. Nessas condições a cardinalidade do conjunto $\mathcal{P}(A \cap B)$, ou seja, o número de subconjuntos da interseção é igual a:

- A) 7
B) 20
C) 80
D) 128

24. Um celular custa R\$ 2.500,00 e é vendido com um desconto de 20%. No momento da compra, é aplicado um imposto de 10% sobre o preço final com desconto. O preço final pago na compra foi de:

- A) R\$ 2.100,00
B) R\$ 2.200,00
C) R\$ 2.300,00
D) R\$ 2.400,00

CONHECIMENTOS ESPECÍFICOS

25. Os pneus fazem parte do sistema de rodados de diversas máquinas pesadas. Eles têm a função de realizar a sustentação e o amortecimento do peso da máquina através da:

- A) pressão de ar interna
- B) grande área de contato
- C) carga distribuída sobre o solo
- D) estabilidade em terrenos irregulares

26. O sistema de frenagem desempenha papel fundamental na operação segura da máquina promovendo a diminuição da velocidade conforme necessário. Sobre o princípio de acionamento dos freios do tipo hidráulico, temos que a força sobre o(a):

- A) alavanca transmite pressão ao óleo hidráulico fazendo com que a pinça realize a fricção no disco ou tambor de freio
- B) pedal transmite pressão ao óleo hidráulico fazendo com que a pinça realize a fricção no disco ou tambor de freio
- C) pedal transmite pressão ao óleo hidráulico fazendo com que a pinça realize a tração no disco ou tambor de freio
- D) pedal transmite pressão à mangueira hidráulica fazendo com que a pinça realize a fricção no disco ou tambor de freio

27. Com a função de promover a mudança de direção de máquinas, o sistema de direção transmite o movimento do volante para as rodas. Alguns componentes desse sistema são:

- A) coluna de direção, amortecedor e diferencial
- B) coluna de direção, molas e barras de direção
- C) eixo cardan, amortecedor e diferencial
- D) coluna de direção, bomba hidráulica e barras de direção

28. O elemento do sistema de transmissão que tem a função de variar a velocidade, modificar o torque e inverter o sentido do movimento da máquina é o(a):

- A) redutor
- B) diferencial
- C) embreagem
- D) caixa de câmbio

29. Os motores de combustão interna possuem a função de converter a energia extraída de seu combustível em energia mecânica ou de movimento. Dentre os vários desses tipos, o motor que funciona através do movimento oscilatório de um pistão dentro de um cilindro é o motor do tipo:

- A) rotativo
- B) cilíndrico
- C) alternativo
- D) combustivo

30. A alimentação do combustível em um veículo pesado deve ocorrer de maneira que tanto a tração quanto o movimento do veículo desempenhem um bom rendimento de operação. Caso alguma falha na bomba de combustível esteja presente, é provável que o operador da máquina perceba que:

- A) as luzes de painel e faróis não ligam
- B) o veículo aparenta não ter força para se movimentar
- C) a sinalização de temperatura no painel indica um aumento
- D) o motor apresenta um barulho intermitente de batida de pino

31. As atividades que demandam constantemente o uso de máquinas e equipamentos fazem com que esses apresentem desgaste levando à necessidade de serviços de manutenção e reparo. De acordo com as normas técnicas oficiais, as inspeções e reparos devem ser realizados somente por profissional:

- A) com maior tempo de serviço
- B) indicado pela chefia imediata
- C) legalmente habilitado ou qualificado
- D) que possui proatividade e se dispõe a aprender

32. Observar as orientações sanitárias no local de trabalho são fundamentais para promover conforto aos seus trabalhadores e usuários. Caso o local possua vestiários a disposição, estes devem ser mantidos:

- A) com as janelas abertas para circulação do ar
- B) em condição de conservação, limpeza e higiene
- C) trancados no tempo que não estiver sob limpeza
- D) em temperaturas elevadas quando forem utilizados

33. Os motores que utilizam diesel como combustível possuem algumas diferenças quanto à ignição se compararmos com os motores que utilizam gasolina e etanol. Para medir a qualidade do diesel é necessário saber a sua cetanagem, que é a propriedade de um combustível que mede a:

- A) energia de compressão
- B) potência de compressão
- C) facilidade para entrar em autoignição
- D) resistência para entrar em autoignição

34. A atividade agrícola necessita continuamente do tratamento do solo, da plantação e do gado para manter a qualidade de toda a sua produção. A máquina que possui a função de aparar a vegetação rasteira com o intuito de limpar o terreno e controlar o seu crescimento é a:

- A) roçadeira
- B) ensiladeira
- C) escavadeira
- D) calcareadeira

35. O eixo cardã, componente fundamental em máquinas pesadas, tendo a função de transmitir torque e rotação, deve ser instalado conforme diretrizes técnicas constantes nas normas regulamentadoras, para promover eficiência e segurança aos seus usuários. As normas destacam que um eixo cardã deve possuir proteção adequada:

- A) nas extremidades, próximas a cada cruzeta
- B) no meio do eixo, no ponto entre cada cruzeta
- C) próxima à máquina, que vai somente em uma cruzeta
- D) em toda sua extensão, que vai de uma cruzeta à outra

36. Se caso em uma inspeção de rotina de um trator, o mecânico verificar alguns sinais de irregularidade durante seu funcionamento como: ruído metálico intermitente vindo do motor, painel indicando aumento rápido de temperatura, odor de material queimado e perda de potência do motor, ele deve concluir que os sintomas se devem:

- A) à deterioração do óleo diesel, resultando em combustão incompleta e carbonização das câmaras de combustão
- B) à contaminação do fluido de arrefecimento, que reduziu a capacidade de troca térmica e provocou superaquecimento localizado
- C) à degradação do óleo lubrificante, que perdeu viscosidade e capacidade de formar o filme protetor entre as superfícies metálicas móveis
- D) ao esgotamento do fluido hidráulico do sistema de direção, ocasionando aumento de esforço mecânico e aquecimento secundário do motor

37. Para que os trabalhadores tenham segurança ao desempenhar suas atividades, as máquinas e equipamentos devem:

- A) operar sempre acima de sua capacidade normal de peso ou carga
- B) operar acima de sua capacidade normal de peso ou carga quando houver necessidade
- C) ser utilizados além das especificações técnicas dos fabricantes, como em terrenos íngremes e irregulares
- D) ser utilizados segundo especificações técnicas dos fabricantes e operados por trabalhadores capacitados

38. O tempo médio entre falhas (TMEF) é um dos parâmetros mais utilizados na gestão da manutenção preventiva, sendo um indicador de confiabilidade, que serve para medir o(a):

- A) intervalo médio de tempo que ocorre entre uma falha e a próxima
- B) período que decorre na realização do reparo entre uma falha e outra
- C) garantia do período de funcionamento da máquina até a próxima falha
- D) média de tempo utilizada para monitorar o período de paralisação de uma máquina

39. Para uma operação segura de veículos tratores em vias públicas é necessário que o condutor seja habilitado:

- A) nas categorias C, D e E
- B) em todas as categorias, de A a E
- C) em pelo menos uma das categorias C, D ou E
- D) em no mínimo uma das categorias B, C, D ou E

40. Os equipamentos de segurança individual (EPI) representam papel fundamental na segurança e integridade física dos trabalhadores em diversas situações de operação. Para a região dos olhos temos os óculos de proteção que protegem os olhos de:

- A) impactos de partículas, luminosidade e radiação
- B) níveis de pressão sonora, luminosidade e radiação
- C) níveis de pressão sonora, choque elétrico e radiação
- D) níveis de pressão sonora, choque elétrico e queda de altura

RASCUNHO



RAASCUNHO